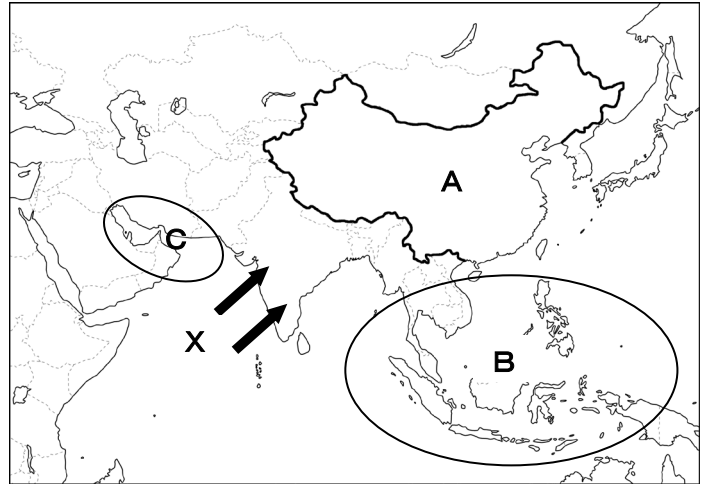


単元名	年組番	15問
1年 地理的分野 世界の諸地域 アジア州、ヨーロッパ州、アフリカ州	氏名	

1. 右の地図を見て、各問いに答えなさい。

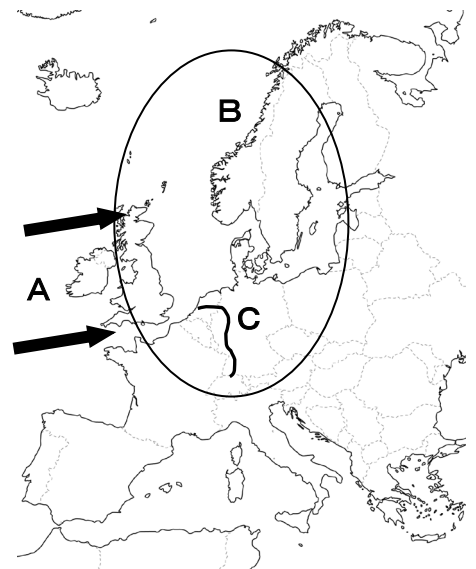
【アジア州】

- アジア東部や南部沿岸の気候に影響を与えるXの風を何というか。(モンスーン)
- 人口が13億人いるA国で、人口の約90%を占める民族を何というか。(漢民族)
- A国が人口の増加を抑制するためにとった政策を何というか。(一人っ子政策)
- Bの地域諸国が、経済発展や相互協力のためにつくった組織を何というか。(ASEAN)
- アラビア半島東部に位置するC湾で、大量に採掘される鉱産資源は何か。(石油)



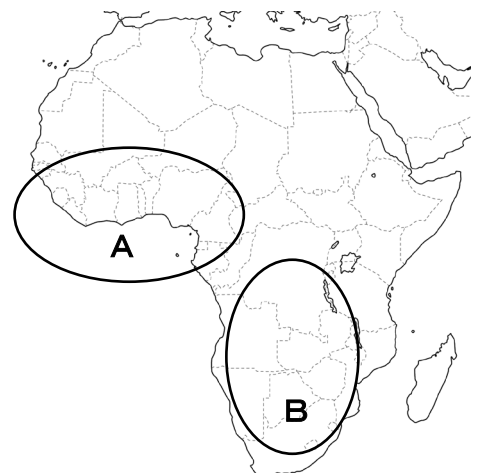
【ヨーロッパ州】

- 暖流の上を吹き、ヨーロッパの気候に影響を与えるAの風を何というか。(偏西風)
- ヨーロッパのB〇に多い民族はゲルマン系、ラテン系、スラブ系のうちどの民族か。(ゲルマン系)
- ドイツやオランダを主に流れ、北海にそそぐCの国際河川を何というか。(ライン川)
- 1993年に発足した、ヨーロッパの政治的・経済的な統合をめざすための組織を何というか。(EU ヨーロッパ連合)
- アルプス山脈より北の地域で行われている、家畜の飼育と作物栽培を組み合わせた農業を何というか。(混合農業)



【アフリカ州】

- アフリカ州は、ヨーロッパ諸国から分割され支配を受けていた。このような地域を何というか。(植民地)
- アフリカ最南端に位置し、かつてアパルトヘイトが行われていた国の名前を何というか。(南アフリカ共和国)
- Aの地域でよくみられる、ヨーロッパ諸国によって特定の作物を栽培するためにつくられた大規模な農園を何というか。(プランテーション)
- アフリカ諸国にみられる、限られた農産物や鉱山資源の生産や輸出にかたよった経済を何というか。(モノカルチャー経済)
- アフリカのBの地域で産出され、電子機械などに多く使われる世界的に産出量の少ない金属を何というか。(レアメタル)

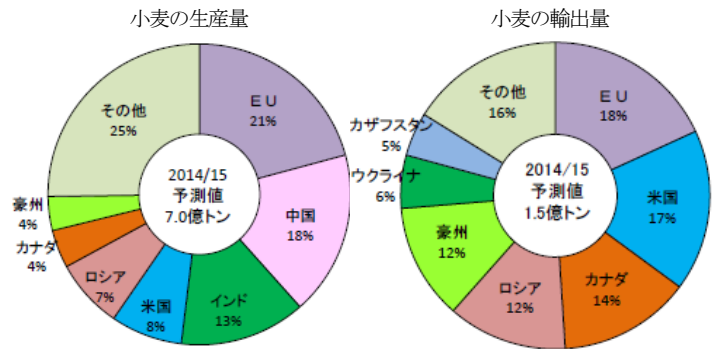


単元名	年組番	9問
1年 地理的分野 世界の諸地域 アジア州、ヨーロッパ州、アフリカ州	氏名	

1. 右の地図を見て、各問いに答えなさい。

【アジア州】

- 右のグラフを見て、ロシアを除いたアジア州の国が占める小麦の生産量は何%か。 (31%)
- 中国の小麦の生産量は何tになるか、計算しなさい。 (1億2千600万t)
- 生産量上位の中国やインドは、輸出量の上位に入っていない。その理由を「人口」の語句を用いて書きなさい。



(人口が多いため、国内での消費量が多いから。)

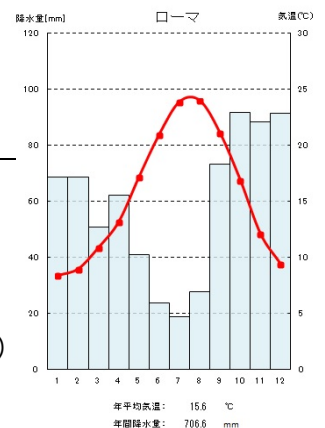
(農林水産省HPより)

【ヨーロッパ州】

- 資料1を見て、労働者の受け入れ数が最も多い国と最も多く労働者を送り出している国名を書きなさい。
(受け入れ: ドイツ 送り出し: トルコ)
- 資料1からわかる、EU加盟国間の産業や生活に関する課題は何か、簡潔に書きなさい。(域内格差)
- 資料2を見て、EU内での観光者の移動が多い理由を「パスポート」、「自由」の語句を使って簡単に書きなさい。
(EU加盟国間ではパスポートがなくても、自由に移動することができるから。)
- 右の雨温図は、何気候を表しているか答えなさい。(地中海性気候)
- 右の雨温図の地域では気候の特徴からどのような農業を行っているか、夏の気候の特徴と農作物を関連付けて答えなさい。
(夏の高温で乾燥した気候を利用し、ブドウやオリーブなどを栽培している)

(資料1)
教科書 P.66
①国境をこえる労働者の移動

(資料2)
教科書 P.65
④ヨーロッパの観光客の移動



(<http://世界の雨温図.asia/>)

【アフリカ州】

- 資料3の国々のような、限られた農作物や鉱産資源の生産や輸出にかたよった経済には、どのような問題点があるか。「作物」「経済」の2つの語句を使って簡単に答えなさい。
(作物の出来や価格の変動で、国の経済が安定しないこと)
- 途上国でつくられた農産物や製品を適正な価格で取り引きすることによって発展途上国の人々の生活と自立を支える仕組みを何というか。
(フェアトレード)

(資料3)
教科書 P.71
⑥アフリカ各国のおもな輸出品