

単元名	年組番	問
世界各地の人々の生活と環境	氏名	

○地域によって、人々の生活がどのように違うのか確認しよう。



(1) ヤクーツク (ロシア) <寒い地域の暮らし>

- ・北極や南極に近いところに分布する。
- ・冬の寒さが厳しい (-40度位)。
- ・降水量が少なく、夏冬の気温差が大きい。
- ・毛皮の防寒用コート、帽子をかぶる。
- ・外国の食文化が入り、製品が輸入される。

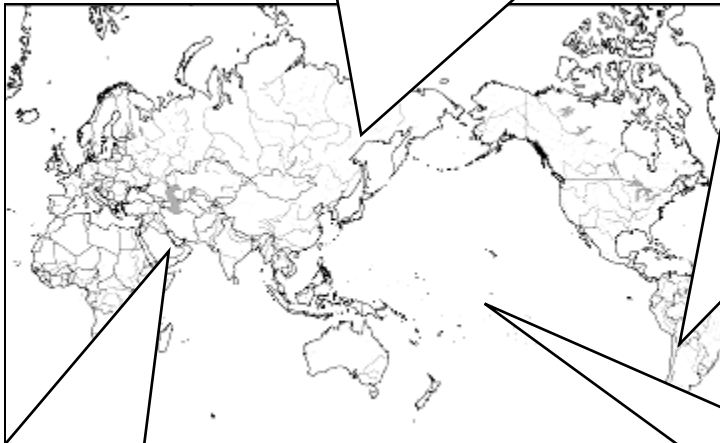


(2) リマ (ペルー)



<高い地域の暮らし>

- ・アルプス、ヒマラヤ、ロッキー、アンデス山脈
- ・気温は一年中変わらず、降水量は少ない。
- ・帽子、アルパカの毛、長袖のポンチョを着用。
- ・じゃがいも、とうもろこしなどの食事。
- ・交通通信の発達や観光客の増加で生活が変化。



(3) リヤド (サウジアラビア)

<乾燥した地域の暮らし>

- ・砂漠やその周辺に広がる。
- ・雨が極端に少なく乾燥している。昼と夜の気温差が大きい。
- ・強い日差しや砂ぼこりから守るため長袖着用。
- ・窓が小さく、日干しれんがでつくった家に住む。
- ・海水を真水に変える技術で居住地が広がり、大規模な農業もできるようになった。



(4) ナンディー (フィジー)

<暑い地域の暮らし>



- ・赤道をはさんで両側に広がる。
- ・一年中暑く、降水量が多い。
- ・半袖短パンの涼しい服装。
- ・木の幹や葉で作った柱や屋根、床の敷物。
- ・燃やせない、自然界にもどらないゴミが増えた。

○世界各地の人々の暮らしについて、次の語句を全て使ってまとめよう。

(1) 寒い地域の暮らし

冬が大変寒く、夏と冬の気温差が大きい(① 亜寒帯)に位置する。寒い冬に備えて、夏に(② 保存)食を作る。シベリアは(③ 永久凍土)の中であり、外出時は馬やトナカイの毛皮を着用する。最近外国から電気製品等を輸入している。

(2) 高地の暮らし

年間の気温変化は小さく、昼夜の(① 気温)差が大きい。(② ジャガイモ)やとうもろこしを栽培し、アルパカやリャマの(③ 放牧)を行っている。家の壁は、(④ 石)や日干しれんがを使う。最近車両を使った輸送が中心となり、観光客も増加した。


(3) 乾燥した地域の暮らし

雨が少なく植物が育たない(① 乾燥帯)に位置する。また(② 日干しれんが)を利用した家に住み、(③ 地下水)を得られるオアシスで農業を行い、周辺で遊牧を行ってきた。(④ 原油)の輸出で得た利益を国土開発に利用している。

(4) 暑い地域の暮らし

赤道付近に位置し、年中多雨で、(① 熱帯林)が広がる。伝統的な家の屋根は木の葉で、(② 壁)はなく、高床になっている。食事はココナツや(③ いも)類である。最近外国文化が入り、(④ 燃やせないゴミ)が増え、問題になっている。

【語句】	乾燥帯	熱帯林	亜寒帯	保存	日干しれんが	地下水	放牧	
	永久凍土	いも	原油	壁	気温	じゃがいも	石	燃やせないゴミ



○世界の食文化と宗教について確認しよう。

◎食文化

- ・米…雨の多い東南アジアや日本、中国で栽培。
- ・小麦…比較的雨の少ない地域で栽培。粉にして、パンやめんにして食用。
- ・とうもろこし…粉を練ってのばして焼くトルティーヤなど。
- ・イモ類…熱帯の島々では、ヤムいもなど。南アメリカやヨーロッパではじゃがいも。

◎宗教と生活のかかわり

- ・仏教…東南アジアや東アジア。日本の文化に大きな影響。タイでは男性は一生に一度出家する。
- ・キリスト教…ヨーロッパ、南北アメリカ、オセアニア。クリスマス、イースターが大きな行事。
- ・イスラム教…西アジア、北アフリカ、中央・東南アジア。1日5回メッカに向かって祈る。
- ・民族的な宗教…インドのヒンドゥー教や日本の神道など。

単元名	年組番	問
世界各地の人々の生活と環境	氏名	

○世界の3大宗教 () にあてはまる語句を下記から選び、書き込もう。

宗教	(① キリスト) 教	(③ イスラム) 教	(⑥ 仏) 教
主な分布地	ヨーロッパ 南北アメリカ オセアニア	西アジア 北アフリカ 中央・東南アジア	東アジア 東南アジア
創始者	イエス＝キリスト	マホメット	ブッダ
特色・習慣・祈り	<ul style="list-style-type: none"> ・(② クリスマス) と復活祭が最大の祝日。 ・食事前に祈る。 ・日曜日に教会で祈る。 	<ul style="list-style-type: none"> ・(④ ぶた) 肉を食べない。 ・1日5回メッカの方向に祈る。 ・金曜日に(⑤ モスク) で祈る。 ・アルコールは飲まない。 	<ul style="list-style-type: none"> ・日本の文化に大きな影響。 ・タイでは男性は一生に一度出家する。

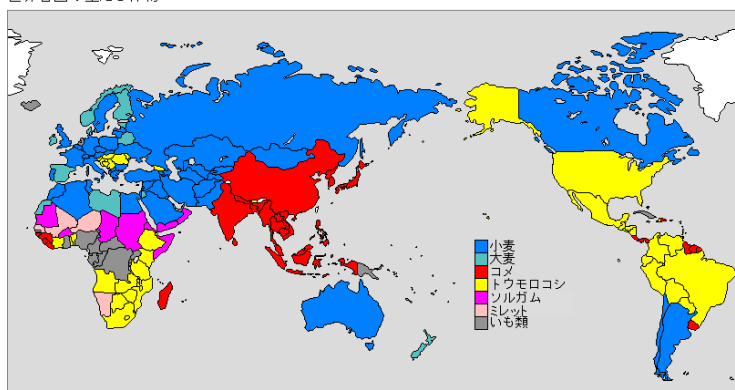
【語群】 仏 イスラム クリスマス 神社 ぶた 牛 キリスト モスク

○世界の主たる作物の分布を示した下記の地図を見て、(1)～(3)に語句を入れよう。

主食	地域	食べ方の例
(1) コメ	東アジア・東南アジア	炊く、フォー等の麺にする。
(2) 小麦	ヨーロッパ、アジア、南・北アメリカ	パンやチャパティ、麺にする。
(3) トウモロコシ	メキシコ・アフリカ東部	粉にして、トルティーヤ等を作る。
いも類	南太平洋の島々、南アメリカ	蒸す

(出典) 社会実情データ図録 (<http://www2.ttcn.ne.jp/honkawa/>) 世界の主たる穀物

世界各国の主たる作物



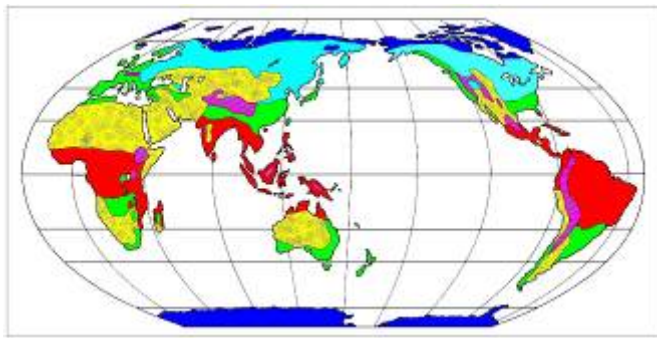
(注) 世界各国の収穫面積が最大の穀物等を示した(2004年)。トウモロコシが1位であっても米国などは輸出向けによるもの、大麦は飼料用が主など、必ずしもその国の主食を示している訳ではない点に注意。
ソルガム(モロコシ)、ミレット(トウジンビエ、シコクビエ、アワ等)、いも類(Roots and Tubers)。

(資料) FAOSTAT

単元名	年組番	問
世界各地の人々の生活と環境	氏名	

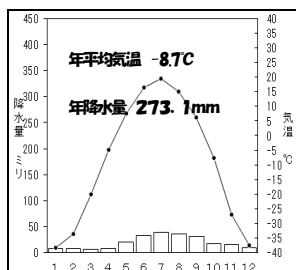
○世界の気候 下記の世界地図を参考に、表にあてはまる世界の気候帯を書きこもう。

①熱帯)	一年を通して、気温が高く雨の多い地域
②乾燥帯)	一年を通して、降水量が少ない気候の地域
③温帯)	年間の気温の変化が大きく、四季の区別がはっきりした気候の地域
④亜寒帯 (冷帯))	冬の寒さは厳しいが、夏には気温が高くなる気候の地域
⑤寒帯)	一年を通して、寒さの厳しい地域

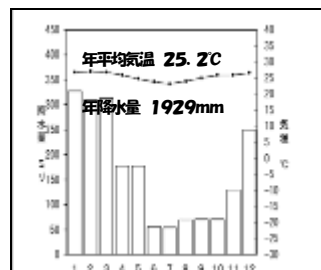


- ①
- ④
- ②
- ⑤
- ③

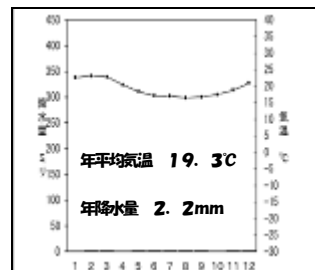
○各気候帯の雨温図A～Dを見て、それぞれの説明文の中に適する語句を書きこもう。



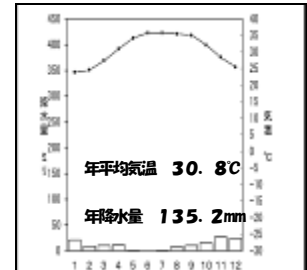
A: ヤクーツク (ロシア)



B: ナンディー (フィジー)



C: リマ (ブラジル)



D: リヤド (サウジアラビア)

(参考資料) 気象庁 (<http://www.data.jma.go.jp/gmd/cpd/monitor/index.html>) 世界の気象

- A: 平均気温が0°Cを (① 下) まわり、非常に寒い。
- B: 1年を通して、気温が (② 高く)、降水量も (③ 多い)。
- C: 冬でも気温が10°Cを (④ 上) まわり、ほとんど雨が (⑤ 降らない)。
- D: 気温が季節によって変化する。年間全体の降水量はAやBに比べると (⑥ 少ない)。