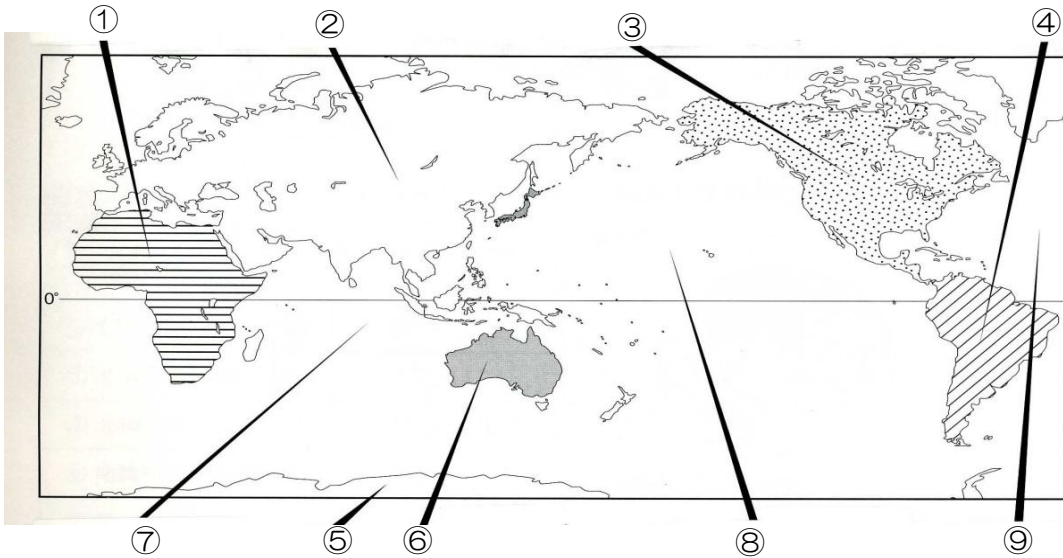


単元名	年組番	17問
世界各地の人々の生活と環境	氏名	

1, 三大洋と六大陸について、次の地図を見て答えなさい。

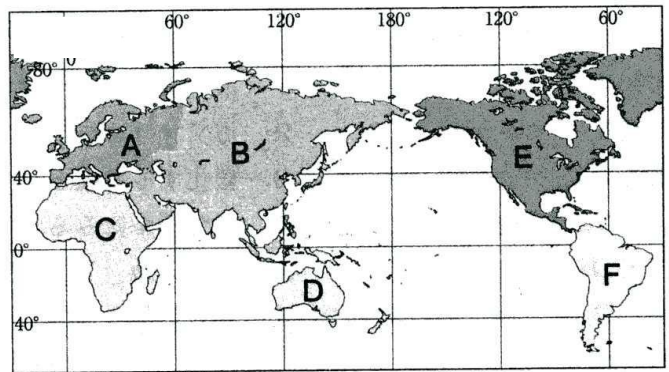
(1) 地図中の①～⑨にあてはまる大洋名、大陸名を書きなさい。

- ① (アフリカ) 大陸 ② (ユーラシア) 大陸 ③ (北アメリカ) 大陸
 ④ (南アメリカ) 大陸 ⑤ (南極) 大陸 ⑥ (オーストラリア) 大陸
 ⑦ (インド) 洋 ⑧ (太平) 洋 ⑨ (大西) 洋



2, 地図中のA～Fの州名を次から選んで書きなさい。

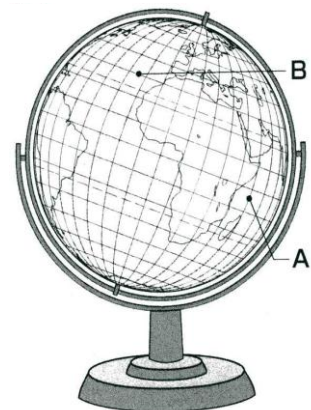
- アフリカ アジア オセアニア 北アメリカ
 南アメリカ ヨーロッパ



- A (ヨーロッパ) 州 B (アジア) 州
 C (アフリカ) 州 D (オセアニア) 州
 E (北アメリカ) 州 F (南アメリカ) 州

3, 地球儀をみて、次の問いに答えなさい。

- (1) Aの線は、地球儀や地図で縦に引かれている線である。
 この線を何というか答えなさい。
 A (経線)
- (2) Bの線は、地球儀や地図で横に引かれている線である。
 この線を何というか答えなさい。
 B (緯線)



単元名	年組番	9問
世界各地の人々の生活と環境	氏名	

1, 図は、地球儀上で地点Aと地点Bの間の最短コースをひもで結んだようすを描いたものである。

(1) 図中の地点Aがある大陸の名前を答えなさい。

(ユーラシア大陸)

(2) 世界の六大陸のうち、右下の地図に描かれていない大陸の名称を答えなさい。

(南極大陸)

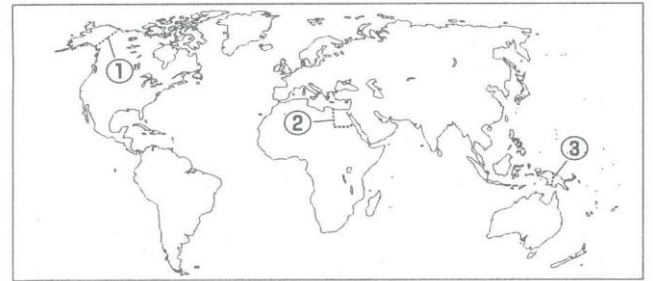
(3) 日本からもっとも遠い国々がある大陸はどこか答えなさい。

(南アメリカ大陸)

(4) 地図中の①～③の国境線に共通する要素を次のア～エから1つ選び答えなさい。

ア 山脈 イ 河川 ウ 経線 エ 緯線

① (ウ) ② (エ) ③ (イ)



2, 次の文章を読んで、次の各問いに答えなさい。

ある年の夏休み中の親子の会話

母：夏休みの宿題はすすんでいるんでしょうね。

娘：社会科の自由研究がどうしたらいいのかわからなくて・・・

母：東京オリンピックがあるから、そこからテーマを決めたらどう？

たとえば、A ロンドンから東京への行き方とか、B オリンピックのマークについてとか。

娘：そうか。オリンピックの歴史について・・・なんてのもいいかもね。

母：そんな話をしていると、東京オリンピックをこの目で見たくなってきたわね。

(1) 下線部Aについて、A ロンドンはどこの国の首都か、国名を答えなさい。

(イギリス)

(2) (1)の国は、どこの州に属しているか、州の名前を答えなさい。

(ヨーロッパ州)

(3) 下線部Bオリンピックのマークである 5 つの輪は世界の五大陸を表している。五大陸のうち、面積が最も広い大陸を次のア～オから 1 つ選び答えなさい。 (エ)

ア 北アメリカ大陸 イ 南アメリカ大陸 ウ アフリカ大陸 エ ユーラシア大陸
オ オーストラリア大陸