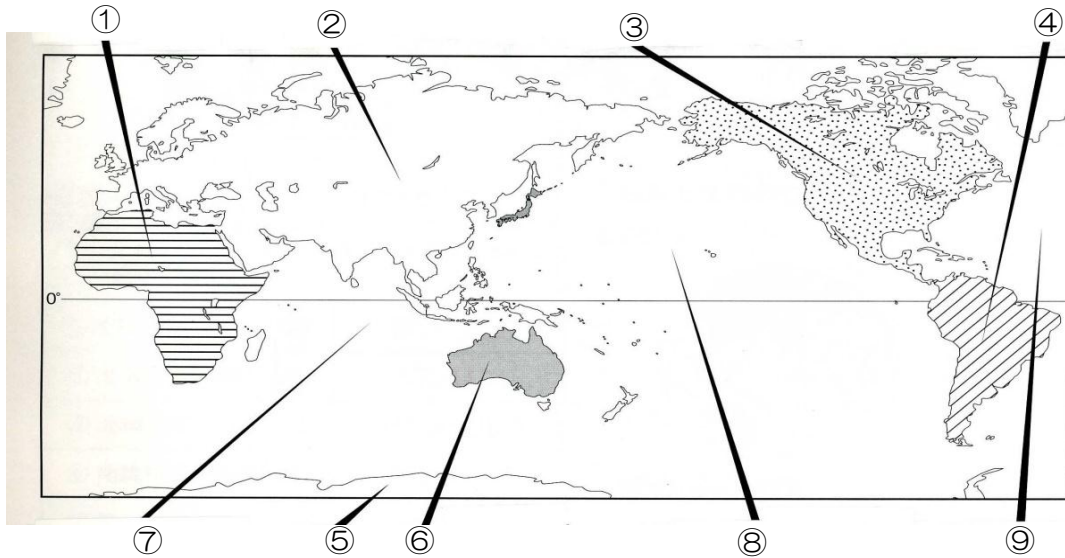


単元名	年組番	17問
世界各地の人々の生活と環境	氏名	

1, 三大洋と六大陸について、次の地図を見て答えなさい。

(1) 地図中の①～⑨にあてはまる大洋名、大陸名を書きなさい。

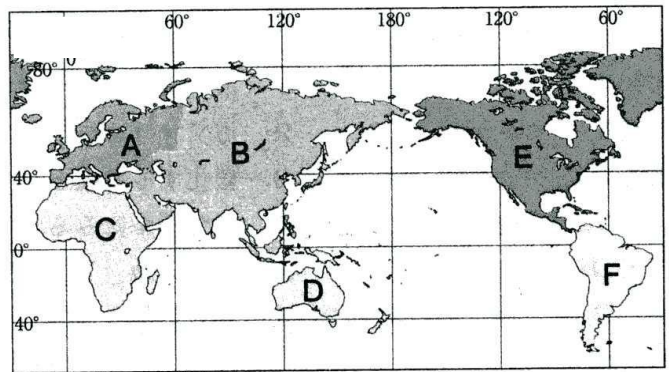
- ① () 大陸 ② () 大陸 ③ () 大陸
 ④ () 大陸 ⑤ () 大陸 ⑥ () 大陸
 ⑦ () 洋 ⑧ () 洋 ⑨ () 洋



2, 地図中のA～Fの州名を次から選んで書きなさい。

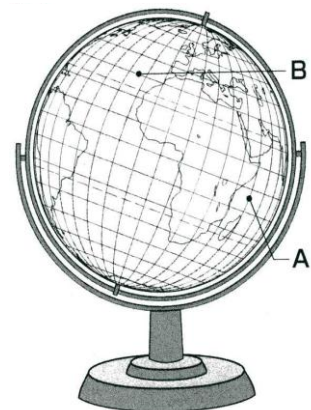
- アフリカ アジア オセアニア 北アメリカ
 南アメリカ ヨーロッパ

- A () 州 B () 州
 C () 州 D () 州
 E () 州 F () 州



3, 地球儀をみて、次の問いに答えなさい。

- (1) Aの線は、地球儀や地図で縦に引かれている線である。
 この線を何というか答えなさい。
 A ()
- (2) Bの線は、地球儀や地図で横に引かれている線である。
 この線を何というか答えなさい。
 B ()



単元名	年組番	9問
世界各地の人々の生活と環境	氏名	

1, 図は、地球儀上で地点Aと地点Bの間の最短コースをひもで結んだようすを描いたものである。

(1) 図中の地点Aがある大陸の名前を答えなさい。

()

(2) 世界の六大陸のうち、右下の地図に描かれていない大陸の名称を答えなさい。

()

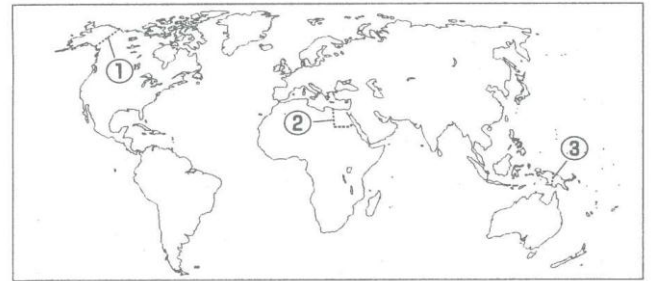
(3) 日本からもっとも遠い国々がある大陸はどこか答えなさい。

()

(4) 地図中の①～③の国境線に共通する要素を次のア～エから1つ選び答えなさい。

ア 山脈 イ 河川 ウ 経線 エ 緯線

① () ② () ③ ()



2, 次の文章を読んで、次の各問いに答えなさい。

ある年の夏休み中の親子の会話

母：夏休みの宿題はすすんでいるんでしょうね。

娘：社会科の自由研究がどうしたらいいのかわからなくて・・・

母：東京オリンピックがあるから、そこからテーマを決めたらどう？

たとえば、A ロンドンから東京への行き方とか、B オリンピックのマークについてとか。

娘：そうか。オリンピックの歴史について・・・なんてのもいいかもね。

母：そんな話をしていると、東京オリンピックをこの目で見たくなってきたわね。

(1) 下線部Aについて、A ロンドンはどこの国の首都か、国名を答えなさい。

()

(2) (1)の国は、どこの州に属しているか、州の名前を答えなさい。

()

(3) 下線部Bオリンピックのマークである 5 つの輪は世界の五大陸を表している。五大陸のうち、面積が最も広い大陸を次のア～オから 1 つ選び答えなさい。 ()

ア 北アメリカ大陸 イ 南アメリカ大陸 ウ アフリカ大陸 エ ユーラシア大陸
オ オーストラリア大陸