



農業（どんな農作物を作っているか）は、降水量（雨の量）や気温にとっても影響されるよ。農業と気候のつながりを考えながら学習しよう！

アジア州の農業

- ・季節風の影響で降水量が多い、東アジアから南アジアの平野では稲作がさかん。
- ・降水量が少ない中国北部やインド西部では、畑作（小麦、とうもろこし、綿花の栽培）がさかん。
- ・乾燥した、西アジアや中央アジアでは牧畜がさかん。

ヨーロッパ州の農業

- ・アルプス山脈の南側では乾燥に強いオレンジやオリーブを栽培する地中海式農業がさかん。
- ・アルプス山脈の北側では家畜の飼育とえさにする作物の栽培を組み合わせた、混合農業がさかん。
- ・北海の近くでは、バターやチーズをつくる、酪農がさかん。

アフリカ州の農業

- ・植民地時代に作られたプランテーションという大規模な農園がある。
- ・ギニア湾岸一帯のカカオ栽培に代表される一つの農産物をたくさん作り、輸出する農業が多い。

北アメリカ州の農業

- ・西側の降水量が少ない地域では放牧がさかん。
- ・東側の降水量のやや多い地域では小麦やとうもろこし、大豆、綿花の栽培がさかん。多くの農産物を栽培し、世界各国へ輸出しているため、「世界の食料庫」と呼ばれている。
- ・広い農地で大型機械を使って、少ない人手で自然環境に合った作物を効率よく大量に生産する。

南アメリカ州の農業

- ・大規模な農場で、コーヒーや小麦の栽培、牛の放牧がおこなわれている。
- ・農業の技術を進歩させて、大豆の栽培がさかんになっている。

オセアニア州の農業

- ・降水量に合わせた農業がさかん。
- ・特に降水量の多い、南東部と南西部で家畜（牛、羊）の放牧と小麦の栽培がさかん。

単元名	年組番	15問
1年 地理的分野 世界の農業	氏名	

アジア州の農業について、次の文章のうち、正しいものを選びましょう。

- ① 東アジアから南アジアの平野では季節風が吹いて降水量が多いので、稲作がさかんだ。
- ② 小麦や綿花の栽培が中国北部やインド西部でさかんなのは、降水量が少ないからだ。
- ③ 降水量が多い、西アジアや中央アジアでは牧畜がさかんだ。 ()

ヨーロッパ州の農業について、次の空欄を埋めましょう。

- ・アルプス山脈の (①) 側では乾燥に強い作物を栽培する (②) 農業がさかん。
- ・アルプス山脈の (③) 側では家畜の飼育とえさの栽培を組み合わせた、(④) 農業がさかん。
- ・北海の近くでは、バターやチーズをつくる、(⑤) がさかん。

アフリカ州の農業について、次の空欄を埋めましょう。

- ・(①) 時代に作られた (②) という大規模な農園がある。
- ・ギニア湾岸一帯では、輸出用の (③) の栽培がさかんである。

北アメリカ州の農業について、次の質問に【 】の言葉を使って答えましょう。

- ① アメリカ合衆国が「世界の食料庫」とよばれている理由を説明しましょう。【輸入】

- ② アメリカの農業の特徴を説明しましょう。【農地・機械・人手】

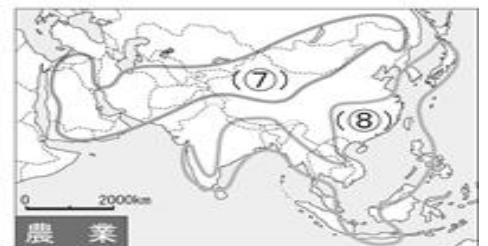
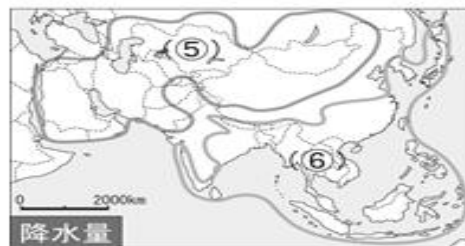
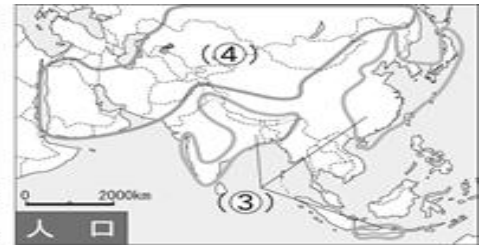
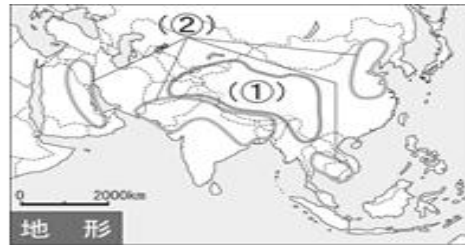
南アメリカ州の農業について、正しいものを選びなさい。

- ア 大規模な農場で、コーヒーや小麦の栽培、牛の放牧がおこなわれている。
- イ 季節風の影響で降水量が多い東側では、米の栽培がさかんにおこなわれている。
- ウ 同じ作物を作る小さな農場がたくさんあり、大量に輸出ができる。
- エ 農業の技術を進歩させて、大豆の栽培がさかんになっている。 ()

オセアニア州の農業について、次の空欄を埋めましょう。

- ・(①) に合わせた農業がさかん。
- ・特に降水量の多い、南東部と南西部で家畜の (②) と (③) の栽培がさかん。

単元名	年組番	9問
1年 地理的分野 世界の農業	氏名	



1 ひとつひとつのグラフの特徴を読み取ってみよう

(1) 地形の地図を見よう。地図帳で調べると、①と②はどんな地形が多い地域かな？

①

②

(2) 人口の地図を見よう。地図帳で調べると、③と④の地域の人口密度は高いかな？低いかな？

③

④

(3) 降水量の地図を見よう。地図帳で調べると、⑤と⑥の地域の降水量は多いかな？少ないかな？

⑤

⑥

(4) 農業の地図を見よう。地図帳で調べると、⑦と⑧の地域はどんな農業が盛んな地域かな？

⑦

⑧

2 1で考えた(1)～(4)の特徴を3つ以上つなげて、「(A) ところでは、(B) がさかん」という形で、文章を2つ作ってみよう。

Aには地理的な特色、Bには農業の種類がはいるよ。