

単 元	年 組 番	氏名
4年「福岡県の地図を広げて」		

地図の見方

日本は、47つの都道府県からなっています。福岡県をさがして赤色を、福岡県以外の行ったことがある都道府県を青色でぬりましょう。

はちほうい
八方位

八つの方位をいう。東西南北の四方位より細かく方位を表している



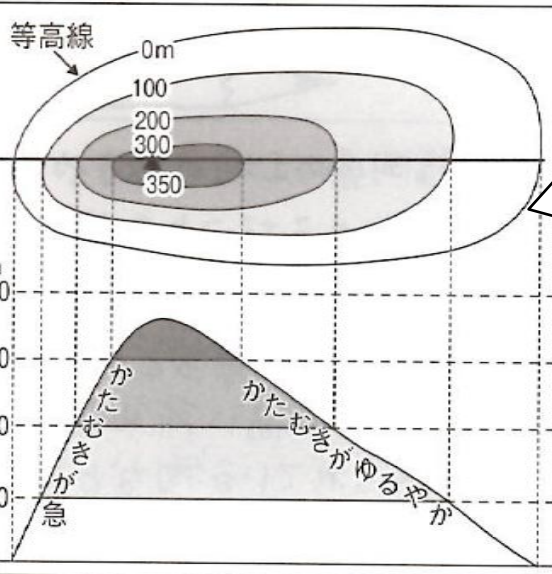
- 地方の境界
- - - - 都・道・府・県の境界
- 外国との境界

しゆくしゃく
縮尺

実際の地図をどれくらいのわり合いでちぢめたのかをしめしたものです。地図によって、縮尺はいろいろあります。
—計算の仕方—
1cmの長さが実際の100kmを表している場合、地図ではかると5cmだったら、 $100 \times 5 = 500$ となり、実際のきよりは500kmとなります。



0 100km



とうこうせん
等高線

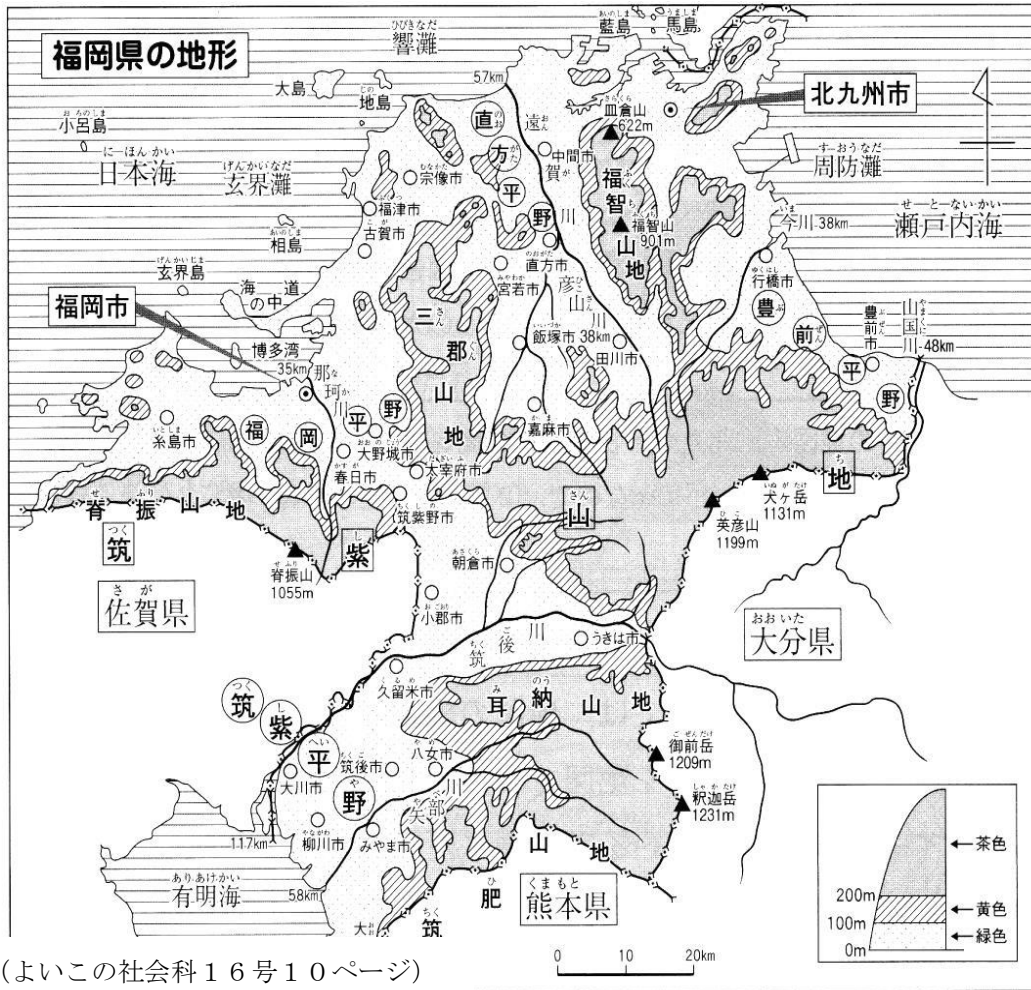
海面からの同じ高さの場所（地点）を結んだ、土地の高さを表す線です。地図帳では、等高線で示す高さごとに、色分けしています。
等高線の間かくがせまいと、土地のかたむきが急になり、間かくが広いと土地のかたむきがゆるやかになります。

単 元	年 組 番	7 問
4 年「福岡県の地図を広げて」	氏名	

福岡県の土地や産業の様子

農業や漁業、工業といった、社会を支えているさまざまな仕事のことを**産業**といいます。

1. 福岡県の土地の様子について、地図を見て答えましょう。



(よいこの社会科16号10ページ)

(1) 北九州市から見て、福岡市は、どの方位にありますか。八方位で答えましょう。

(2) 有明海に面した平野は何平野でしょう。

(3) 福岡県で、1番長い川は何川でしょう。

(4) 地図帳19ページを使って、北九州市と福岡市の間をはかり、実際のきよりをもとめましょう。



2. 福岡県の漁業の様子について、地図を見て答えましょう。

(1) 福岡県は4つの海にかこまれています。有明海、玄界灘とあと2つはどこでしょう。名前を書きましょう。

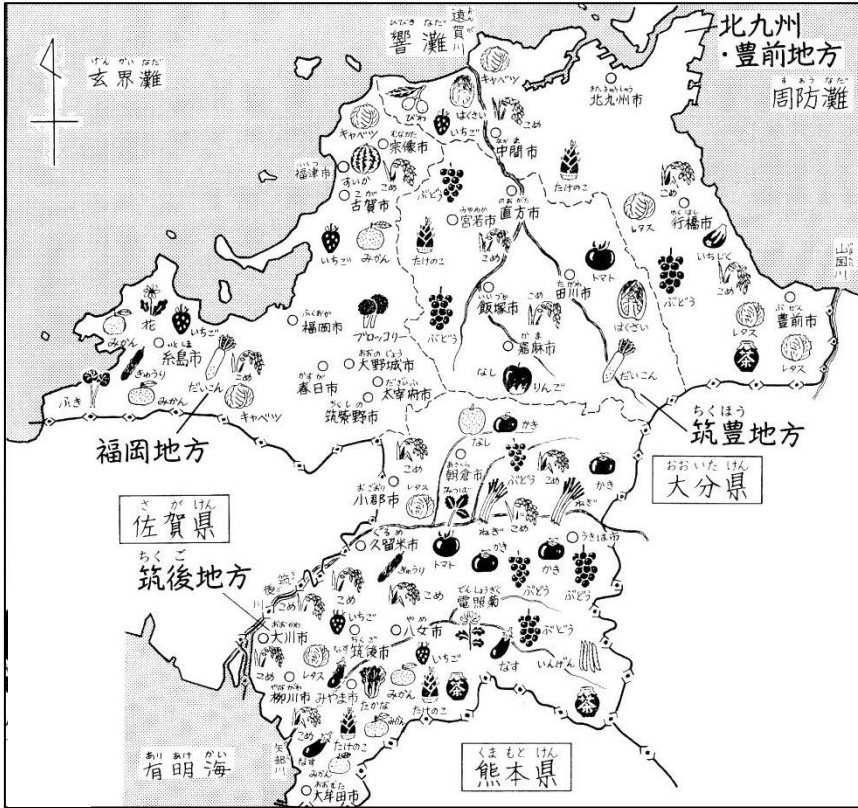
(2) 有明海でさかんに養しょくされている海産物は何でしょう。

(3・4年よいこの社会科16号13ページ)

単 元	年 組 番	氏名	6問
4年「福岡県の地図を広げて」			

福岡県の土地や産業の様子

1. 福岡県の農業の様子について、地図を見て答えましょう。

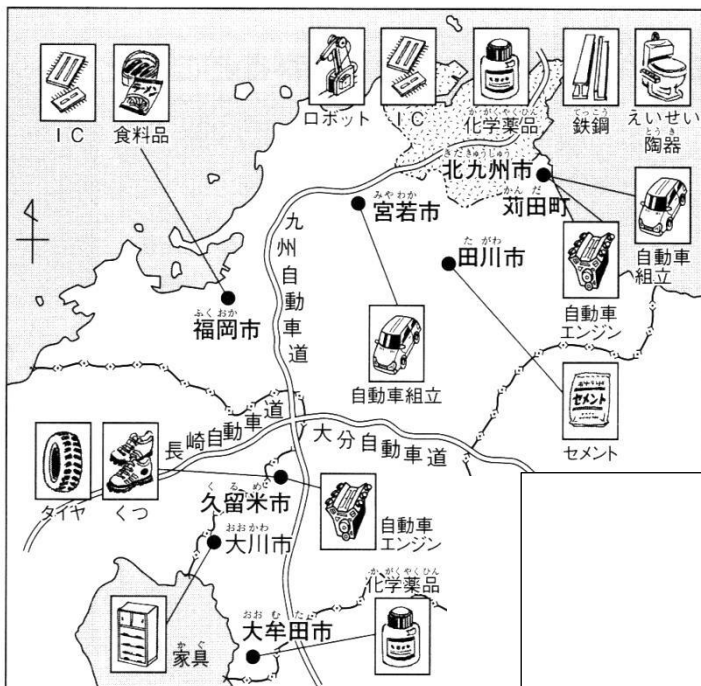


(3・4年よいこの社会科16号11ページ)

(1) 福岡県では、たくさんの農産物がつくられています。北九州・豊前地方では、どのようなものがつくられていますか。2つ書きましょう。

(2) 筑後地方で、たくさんの米がつくられています。そのわけを「チャレンジシート②きほん」の地形図と比べて考え、書きましょう。

2. 福岡県の工業の様子について、地図を見て答えましょう。



(3・4年よいこの社会科16号14ページ)

(1) 北九州市でつくられている主な工業製品には、どのようなものがありますか。2つ書きましょう。

(2) 福岡県には、苅田町・宮若市のように、自動車に関連する工場があります。そのわけを地形や交通と関係づけて考え、書きましょう。