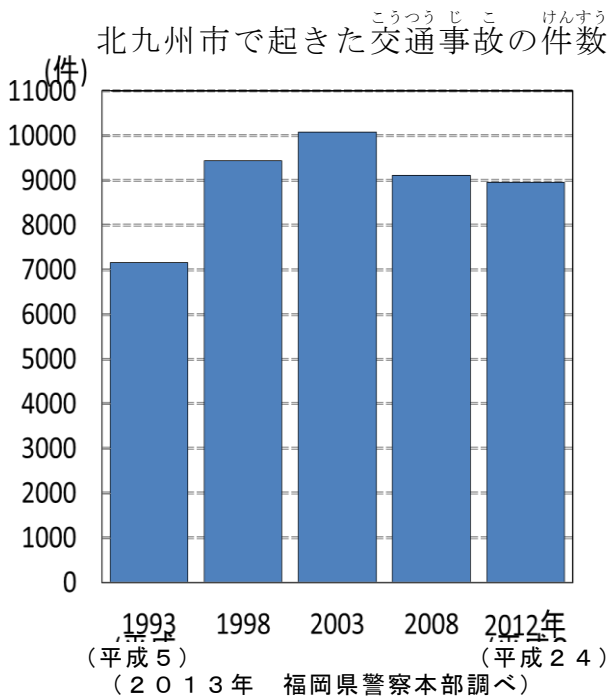


単 元	年 組 番	8 問
4 年「安全なくらしとまちづくり」	氏名	

グラフの見方

- 何を表したグラフなのかを、タイトルを見てたしかめる。
いつのものなのか、だれが発表したのかを、たしかめる。
- たての列の数字、よこの列の数字が、それぞれ何を表しているのかを、単位を見てたしかめる。
- メモリを見て、グラフのぼうがしめすおよその数を読み取る、
- グラフから読み取れること、気づいたこと、考えたことをノートにまとめる。



このグラフは、「北九州市で起きた交通事故の件数」についてかかれています。



2013年、福岡県警察本部が発表したことをもとにつくったグラフです。

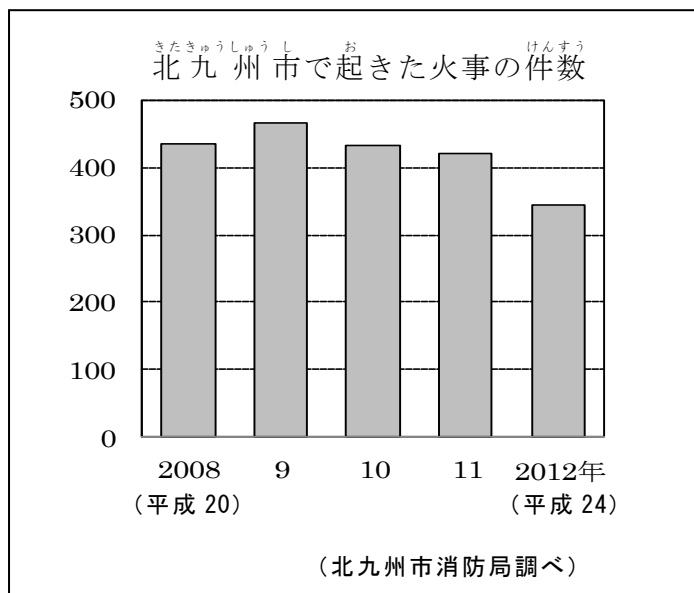


たての列には、事故の件数が書かれています。横の列には、いつ起きた事故なのかが、書かれています。

- ☆ 上のグラフから読み取れることを、下の () に書きこみましょう。
- 交通事故が最も多かったのは、() 年で、およそ () 件。
 - 交通事故が最も少なかったのは、() 年で、およそ () 件。
 - () 年から () 年までは、ふえ続け、() 年から () 年までは、逆にへり続けている。

単 元	年 組 番	1 2 問
4年「安全なくらしとまちづくり」	氏名	

1 下のグラフを見て、問題に答えましょう。



(1) このグラフは、何を表したグラフですか。

[]

(2) このグラフは、どこが調べたことをもとにしてつくられていますか。

[]

(3) このグラフのたての列、よこの列には、何が表されていますか。

たての列…[]

よこの列…[]

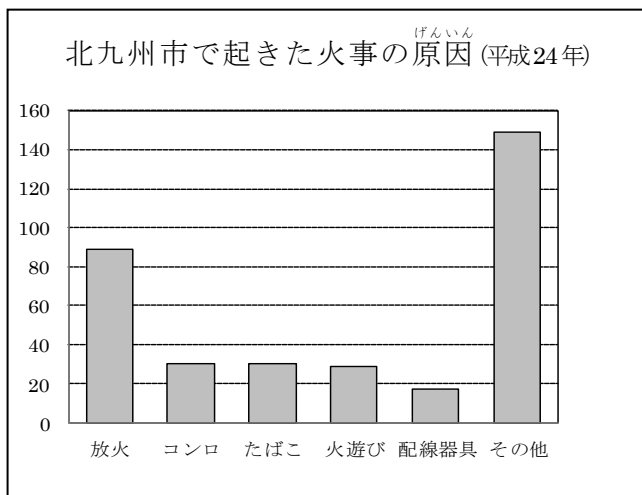
(4) このグラフを見て、次の文の () に当てはまる数や言葉を書き入れましょう。

① 2008年から2012年までの () 年間で、北九州市で起こった () の件数が一番多かったのは、() 年で、およそ () 件くらいです。

② 1番少なかったのは、() 年で、およそ () 件くらいです。

③ 2009年から、火事の件数は、だんだん () きています。

2 下の「北九州市で起きた火事の原因」のグラフを見て、気づいたことを書きましょう。



【気づいたこと】

※注意…「その他」は、件数の少ないものを合わせた数です。だから、グラフで1番多いのは、「その他」ではありません。