

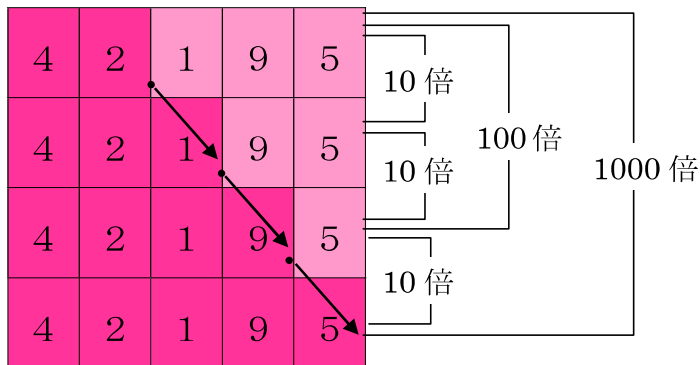


チャレンジシート① 学ぶ

学習日 年 月 日

単 元	年 組 番
5年「 整数と小数 」	氏名

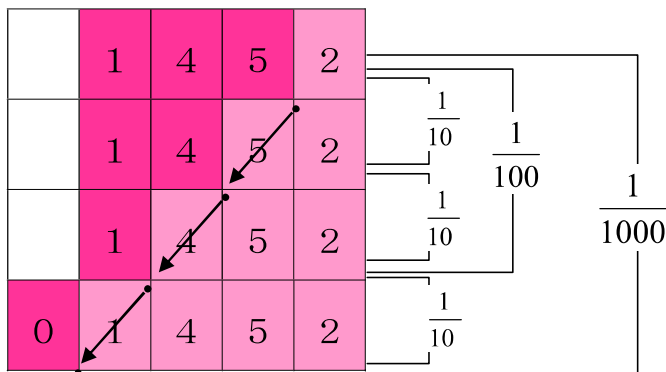
10倍, 100倍, 1000倍



10倍すると、小数点が右に1つ移ります。
整数や小数を、10倍、100倍、1000倍にすると、小数点は右にそれぞれ 1けた、2けた、3けた移ります。



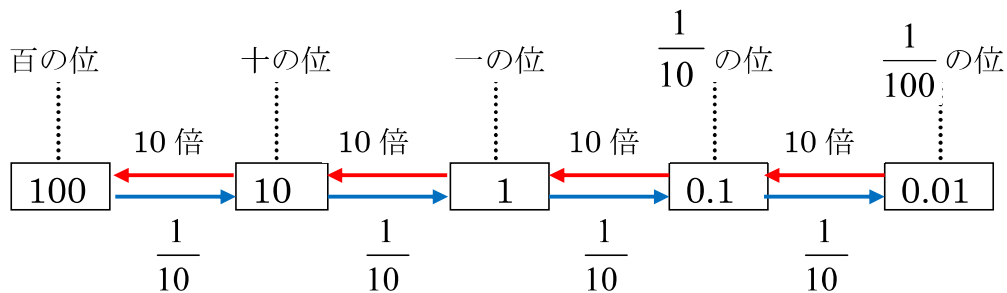
$\frac{1}{10}$, $\frac{1}{100}$, $\frac{1}{1000}$



$\frac{1}{10}$ にすると、小数点が左に1つ移るのね。
整数や小数を、 $\frac{1}{10}$ 、 $\frac{1}{100}$ 、 $\frac{1}{1000}$ にすると、小数点は左にそれぞれ 1けた、2けた、3けた移るのね。



となりの位との関係



整数や小数では、数字のかかれた位置で位がきまり、となりの位との間には、10倍、 $\frac{1}{10}$ の関係があります。

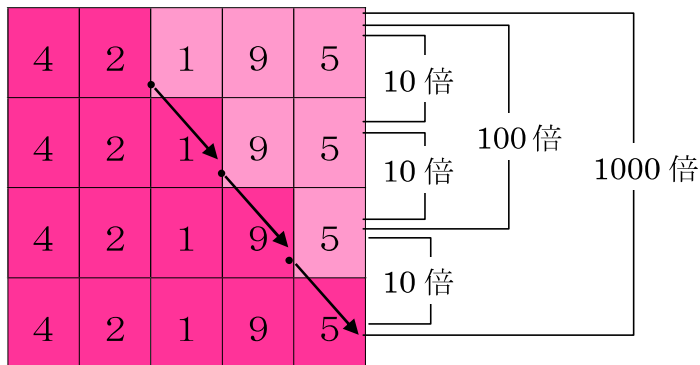


チャレンジシート① 学ぶ

学習日 年 月 日

単 元	年 組 番
5年「 整数と小数 」	氏名

10倍, 100倍, 1000倍

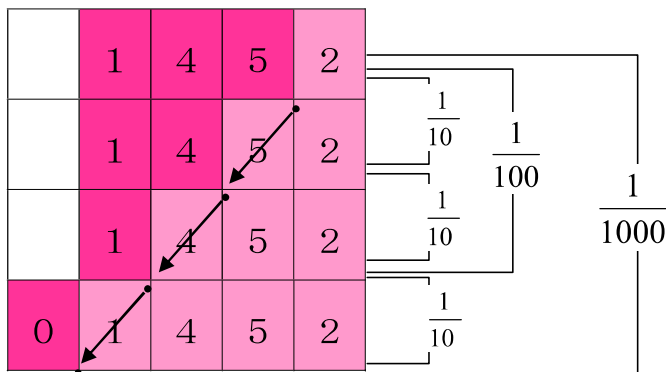


10倍すると、小数点が右に1つ移ります。

整数や小数を、10倍、100倍、1000倍にすると、小数点は右にそれぞれ 1けた、2けた、3けた移ります。



$\frac{1}{10}$, $\frac{1}{100}$, $\frac{1}{1000}$

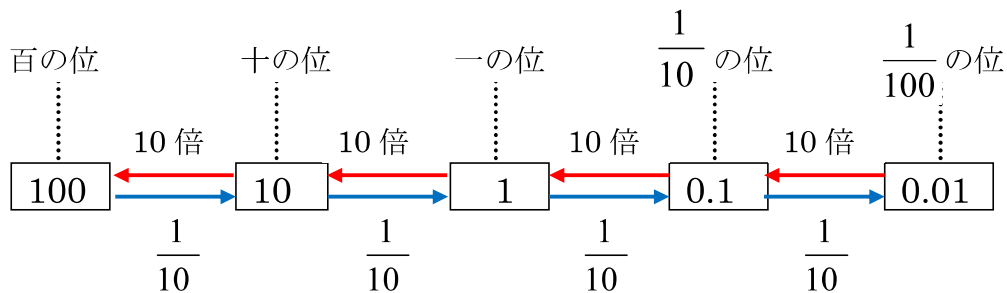


$\frac{1}{10}$ にすると、小数点が左に1つ移るのね。

整数や小数を、 $\frac{1}{10}$ 、 $\frac{1}{100}$ 、 $\frac{1}{1000}$ にすると、小数点は左にそれぞれ 1けた、2けた、3けた移るのね。



となりの位との関係



整数や小数では、数字のかかれた位置で位がきまり、となりの位との間には、10倍、 $\frac{1}{10}$ の関係があります。



チャレンジシート② きほん

学習日 年 月 日

単 元	年 組 番	12問
5年「 整数と小数 」	氏名	

1 次の数をかきましょう。

(1) 3.26 を 10 倍した数

答え

(2) 2.47 を 100 倍した数

答え

(3) 0.038 を 1000 倍した数

答え

(4) 36.9 を $\frac{1}{10}$ にした数

答え

(5) 20.4 を $\frac{1}{100}$ にした数

答え

(6) 57.8 を $\frac{1}{1000}$ にした数

答え

2 10 倍, 100 倍, 1000 倍の数をかきましょう。

10 倍

100 倍

1000 倍

(1) 2.36

答え

<input type="text"/>	<input type="text"/>	<input type="text"/>
----------------------	----------------------	----------------------

(2) 0.5

答え

<input type="text"/>	<input type="text"/>	<input type="text"/>
----------------------	----------------------	----------------------

(3) 0.082

答え

<input type="text"/>	<input type="text"/>	<input type="text"/>
----------------------	----------------------	----------------------

3 $\frac{1}{10}$, $\frac{1}{100}$, $\frac{1}{1000}$ の数をかきましょう。

$\frac{1}{10}$

$\frac{1}{100}$

$\frac{1}{1000}$

(1) 580

答え

<input type="text"/>	<input type="text"/>	<input type="text"/>
----------------------	----------------------	----------------------

(2) 73.2

答え

<input type="text"/>	<input type="text"/>	<input type="text"/>
----------------------	----------------------	----------------------

(3) 20

答え

<input type="text"/>	<input type="text"/>	<input type="text"/>
----------------------	----------------------	----------------------



チャレンジシート② きほん

学習日 年 月 日

単 元	年 組 番	12問
5年「 整数と小数 」	氏名	

1 次の数をかきましょう。

(1) 3.26 を 10 倍した数

答え

32.6

(2) 2.47 を 100 倍した数

答え

247

(3) 0.038 を 1000 倍した数

答え

38

(4) 36.9 を $\frac{1}{10}$ にした数

答え

3.69

(5) 20.4 を $\frac{1}{100}$ にした数

答え

0.204

(6) 57.8 を $\frac{1}{1000}$ にした数

答え

0.0578

2 10 倍, 100 倍, 1000 倍の数をかきましょう。

	10 倍	100 倍	1000 倍
(1) 2.36	23.6	236	2360
(2) 0.5	5	50	500
(3) 0.082	0.82	8.2	82

3 $\frac{1}{10}$, $\frac{1}{100}$, $\frac{1}{1000}$ の数をかきましょう。

	$\frac{1}{10}$	$\frac{1}{100}$	$\frac{1}{1000}$
(1) 580	58	5.8	0.58
(2) 73.2	7.32	0.732	0.0732
(3) 20	2	0.2	0.02



チャレンジシート③ ジャンプ

学習日 年 月 日

単 元	年 組 番	16問
5年「整数と小数」	氏名	

1 計算をしましょう。

(1) $0.05 \times 10 =$

(2) $4.32 \times 100 =$

(3) $0.073 \times 100 =$

(4) $6.85 \times 1000 =$

(5) $0.19 \times 1000 =$

(6) $59.6 \div 10 =$

(7) $4.9 \div 100 =$

(8) $78.1 \div 100 =$

(9) $19.3 \div 1000 =$

(10) $24 \div 1000 =$

2 次の数は、7.28 を何倍した数ですか。

(1) 728 答え

(2) 72.8 答え

(3) 7280 答え

3 次の数は、37.6 の何分の1の数ですか。

(1) 3.76 答え

(2) 0.0376 答え

(3) 0.376 答え



チャレンジシート③ ジャンプ

学習日 年 月 日

単 元	年 組 番	16問
5年「整数と小数」	氏名	

1 計算をしましょう。

(1) $0.05 \times 10 =$

(2) $4.32 \times 100 =$

(3) $0.073 \times 100 =$

(4) $6.85 \times 1000 =$

(5) $0.19 \times 1000 =$

(6) $59.6 \div 10 =$

(7) $4.9 \div 100 =$

(8) $78.1 \div 100 =$

(9) $19.3 \div 1000 =$

(10) $24 \div 1000 =$

2 次の数は、7.28を何倍した数ですか。

(1) 728 答え

(2) 72.8 答え

(3) 7280 答え

3 次の数は、37.6の何分の1の数ですか。

(1) 3.76 答え

(2) 0.0376 答え

(3) 0.376 答え