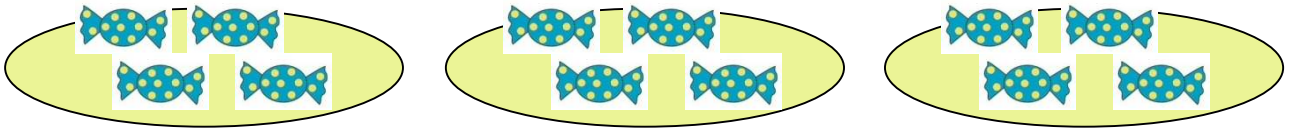


単 元	年 組 番
2年「かけ算(1)」	氏名

いくつ分




あめの 数は 4この 3つ分 といいます。  
これを しきで  $4 \times 3$  とかき, 「4 かける 3」と よみます。

$4 \times 3$  の 答えは,  $4 + 4 + 4$  で もとめられます。

(しき)	4	×	3	=	12	(答え)	12こ
	1つ分の 数		いくつ分		ぜんぶの 数		

$4 \times 3$  のような 計算を かけ算と います。

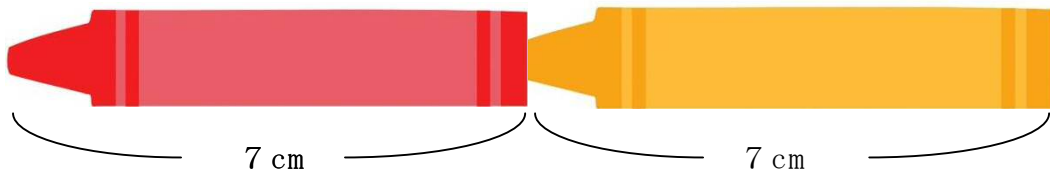
◆ あめの 数を かけ算の しきで もとめましょう。



(しき)  $2 \times 3 = 6$

こたえ 6こ

何ばい




7 cm の 2つ分の ことを, 7 cm の 2ばい と も います。

7 の 2ばい  $7 \times 2 = 14$  14 cm

7 の 1つ分の ことを 7 の 1ばい と いい,  $7 \times 1$  と しきに かきます。

◆ いくつに なるか かけ算の しきで もとめましょう。





の 5ばい (しき)  $3 \times 5 = 15$

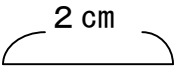
こたえ 15こ

単元	年組番	27問
2年「かけ算(1)」	氏名	

1 かけ算のしきにかいてこたえをもとめましょう。

①  の 5 さら分は 何こ ですか。  
 (しき)  $4 \times 5 = 20$   
 こたえ

②  } 6 cm の 3 はこ 分の 高さは 何 cm ですか。  
 (しき)  $6 \times 3 = 18$   
 こたえ

③  の 4 ばいの 長さは 何 cm ですか。  
 (しき)  $2 \times 4 = 8$   
 こたえ

2 九九を つかって ときましょう。

- ①  $2 \times 6 = 12$     ②  $4 \times 4 = 16$     ③  $3 \times 5 = 15$     ④  $5 \times 2 = 10$   
 ⑤  $4 \times 8 = 32$     ⑥  $3 \times 9 = 27$     ⑦  $5 \times 5 = 25$     ⑧  $4 \times 3 = 12$   
 ⑨  $2 \times 3 = 6$     ⑩  $3 \times 7 = 21$     ⑪  $2 \times 9 = 18$     ⑫  $3 \times 1 = 3$   
 ⑬  $5 \times 8 = 40$     ⑭  $4 \times 6 = 24$     ⑮  $5 \times 1 = 5$     ⑯  $2 \times 7 = 14$

3 子どもが 2人ずつ 組に なって、8組 おどって います。  
 みんなで 何人 いますか。

(しき)  $2 \times 8 = 16$     こたえ

4 おもちゃの 車をつくります。1台に タイヤを 4こ つけます。

① 7台 つくるには、タイヤは 何こ いらいますか。

(しき)  $4 \times 7 = 28$     こたえ



② 車が 1台 ふえると、タイヤは 何こ ふえますか。

単 元	年 組 番	8 問
2 年「かけ算 (1)」	氏名	

- 1 チョコのはこが 4 つ あります。  
1 つの はこには、おかしが 5 こずつ  
はっています。  
ぜんぶで 何こに なりますか。



(しき)  $5 \times 4 = 20$

こたえ


しきは、 $4 \times 5$  かな、それとも  
 $5 \times 4$  かな。  
何この いくつ分かで 考え  
ると……

- 2 あめを 3 つ 買います。  
1 つ 4 円の あめを 買うと、何円に なりますか。



(しき)  $4 \times 3 = 12$

こたえ



- 3 3 こいりの りんごを 6 ふくろ 買いました。  
そのあと、りんごを 2 こ 食べました。  
のこっている りんごは 何こですか。

まず、かけ算をして……  
つぎは 何算かな。

(しき)  $3 \times 6 = 18$   
 $18 - 2 = 16$

こたえ



- 4 ただしくんの クラスには 5 つ はんが あります。  
どの はんも 3 にん です。  
ただしくんの クラスは ぜんぶで 何人いますか。

(しき)  $3 \times 5 = 15$

こたえ