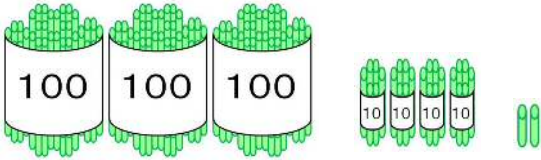


単 元	年 組 番
2年「1000までの数」	氏名

100をこえる数のあらわし方



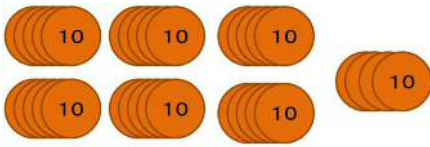
3	4	2
百の く ら い	十の く ら い	一 の く ら い

- 100を3こあつめた数を三百といいます。三百と四十二で三百四十二になります。
- 342とかきます。
- 342は 100を3こ  
10を4こ  
1を2こ  
あわせた数です。

★ 百二十八を数字でかくと **128** です。

◆ 100を5こ，10を3こ，1を9こあわせた数は **539** です。

あつめた数



10を34こあつめると  
340になります。

100を10こあつめた数は  
**1000 千**

★ 10を27こあつめた数は **270** です。

◆ 430は10を **43** こあつめた数です。

数の大小

< や > のきごうをつかって，数の大小をあらわします。  
**359 > 287** 百のくらの数字の大小でくらべます。  
**572 < 580** 十のくらの数字の大小でくらべます。



100のまとまりがいくつあるかで何百とあらわすことができるわ。

10のまとまりがいくつと同じように100のまとまりがいくつを見つけるとよいわね！



単 元	年 組 番	16問
2年「1000までの数」	氏名	

1 数字で かきましょう。

(1) 二百三十七

こたえ

(2) 七百四十

こたえ

(3) 五百

こたえ

(4) 八百一

こたえ

2 つぎの 数を かきましょう。

(1) 400と 60と 3を あわせた数

こたえ

(2) 800と 4を あわせた数

こたえ

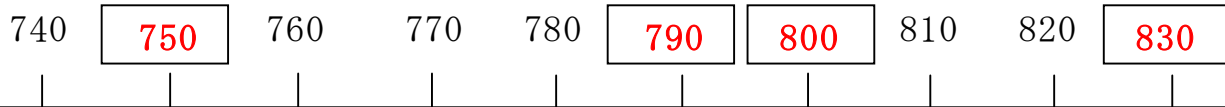
(3) 10を27こ あつめた数

こたえ

3 280は 10を 何こ あつめた数 ですか。

こたえ

4  に あたる数を かきましょう。



5 あと いくつで 1000に なりますか。

(1) 700 こたえ

(2) 998 こたえ

6  に <, =, > のどれかを入れましょう。

(1) 481  518

(2) 730  703

# チャレンジシート③ ジャンプ

学習日 年 月 日

単元	年組番	11問
2年「1000までの数」	氏名	

1  にあてはまる数をかきましょう。

(1)  $300 - \boxed{400} - \boxed{500} - 600 - \boxed{700}$

(2)  $300 - \boxed{350} - \boxed{400} - 450 - \boxed{500}$

(3)  $300 - \boxed{305} - \boxed{310} - 315 - \boxed{320}$

2 つぎの□にあてはまる数をすべていましょう。

(1)  $5\square2 > 578$       答え

(2)  $333 < 33\square$       答え

(3)  $149 > 1\square0$       答え

3 つぎの計算をしましょう。

(1)  $170 + 30 = 200$       (2)  $400 - 280 = 120$

(3)  $20 + 390 = 410$       (4)  $710 - 80 = 630$

4 つぎの文をよんで買えるか買えないかをせつめいしましょう。

(1)

(例) 97円は100円より安いです。  
100円でも600円で6こ買えるから、  
100円より安い97円のパンは6こ買えます。

だから、(  買えません。 )