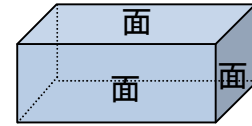


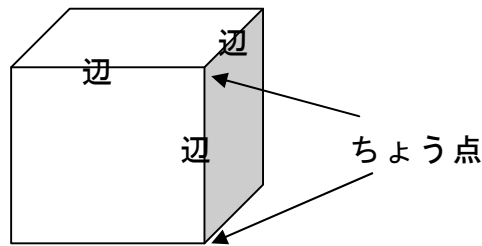
単 元	年 組 番
2年「はこの形」	氏名

めん、へん、ちょう点

はこの 面は、^{ちようほうけい}長 方 形 や ^{せいほうけい}正 方 形 の 形 を し て い て、
ぜんぶで 6つ あります。



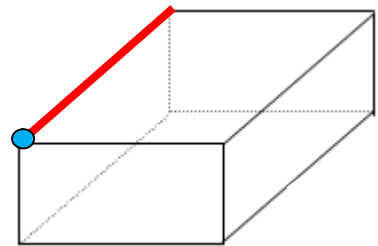
はこの 形には、辺が 12、
ちょう点が 8つ あります。



- ◆ 辺を 赤い えんぴつで なぞりましょう。
また、ちょう点を 青い えんぴつで 書きましょう。

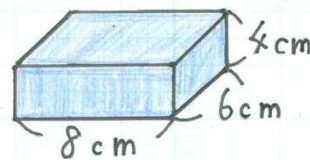


はこの 形には、辺が 12本、
ちょう点が 8つ あるんだったね。



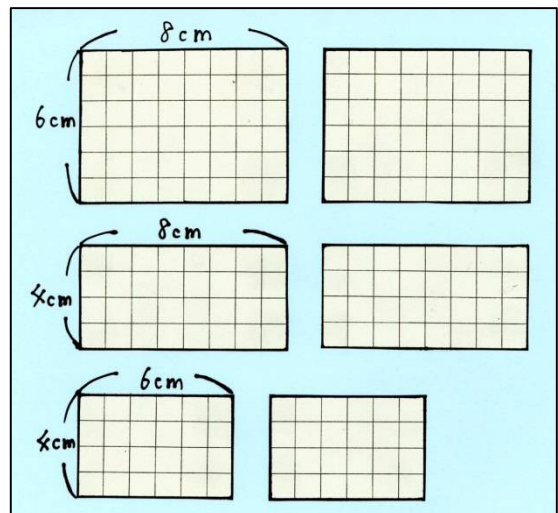
はこづくり

^{こうきくようし}工 作 用 紙 を つ か っ て、右 の よ う な
は この 形 を つ っ り ま す。



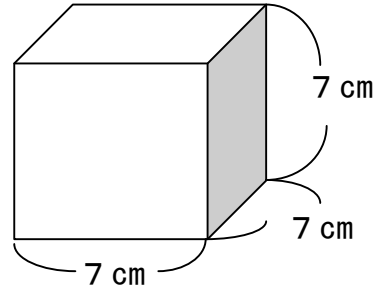
工 作 用 紙 に 面 の 形 を か く と
右 の よ う に 6つ の 面 が で き ま す。

切 り と っ た 面 と 面 を テ ー プ で
つ な ぎ あ わ せ て、^く組 み 立 て る と、は こ が
で き あ が り ま す。



単元	年組番	8問
2年「はこの形」	氏名	

- 1 ^{こうさくようし} 工作用紙を つかって、右のような
さいころの 形を つくります。
どんな 面が、いくつ ありますか。



こたえ 1つの 辺が 7cm の 正方形の 面が、6つ いる。
(別解)

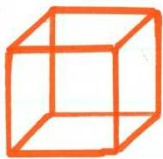


- 2 この 形には、辺が 12, ちょう点が 8つ あります。
つぎの この 形には、同じ 長さの 辺が いくつずつ ありますか。

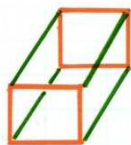


オレンジの 辺 本

みどりの 辺 本 青の 辺 本




オレンジの 辺 本



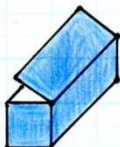
オレンジの 辺 本

みどりの 辺 本

- 3 下の 紙を テープで つないで はこを つくると、㉠, ㉡, ㉢の どれが
できますか。



㉠



㉡



㉢



こたえ