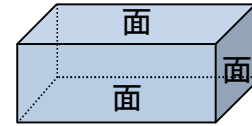


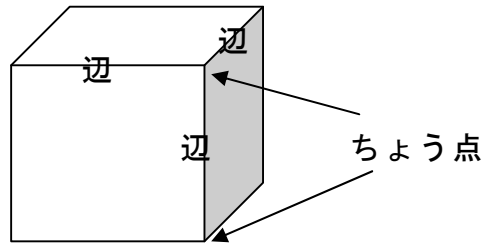
単 元	年 組 番
2年「はこの形」	氏名

めん、へん、ちょうてん

はこの 面は、^{ちやうほうけい}長 方 形 や ^{せいほうけい}正 方 形 の 形 を し て い て、
ぜんぶで 6つ あります。



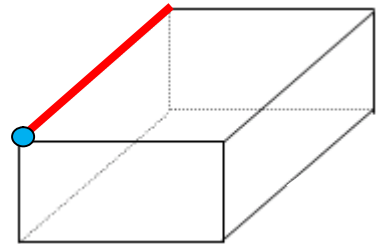
はこの 形には、辺が 12、
ちょうてんが 8つ あります。



- ◆ 辺を 赤い えんぴつで なぞりましょう。
また、ちょうてんを 青い えんぴつで かきましよう。

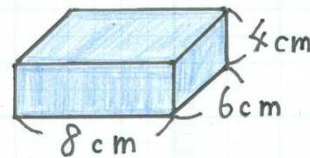


はこの 形には、辺が 12本、
ちょうてんが 8つ あるのだったね。



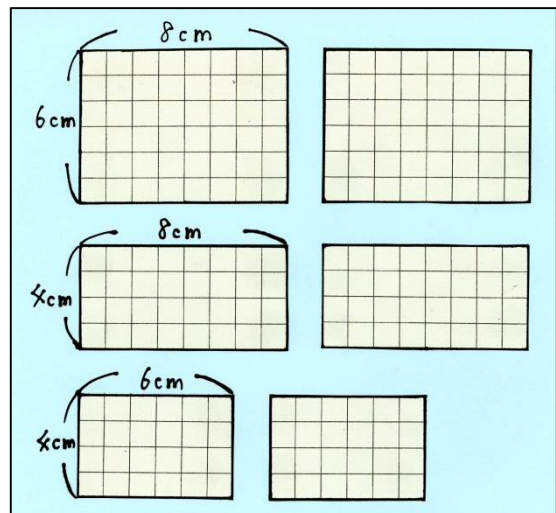
はこづくり

^{こうきくようし}工 作 用 紙 を つ か っ て、右 の よう な
は この 形 を つ っ く り ま す。



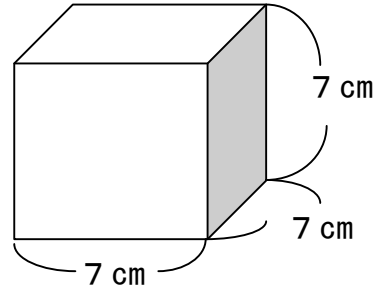
工 作 用 紙 に 面 の 形 を か く と
右 の よう に 6つ の 面 が で き ま す。

切 り と っ た 面 と 面 を テ ー プ で
つ な ぎ あ わ せ て、^く組 み 立 て る と、は こ が
で き あ が り ま す。



単元	年組番	8問
2年「はこの形」	氏名	

- 1 ^{こうさくようし}工作用紙を つかって、右のような
さいころの 形を つくります。
どんな 面が、いくつ ありますか。



こたえ

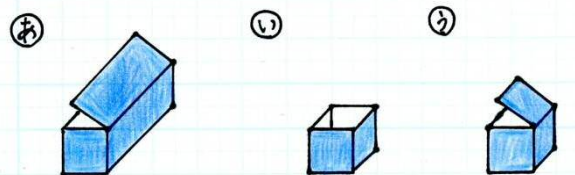

- 2 この 形には、辺が 12、ちょう点が 8つ あります。
つぎの この 形には、同じ 長さの 辺が いくつずつ ありますか。

オレンジの 辺 本
みどりの 辺 本 青の 辺 本

オレンジの 辺 本

オレンジの 辺 本
みどりの 辺 本

- 3 下の 紙を テープで つないで はこを つくると、㊶、㊷、㊸の どれが
できますか。



こたえ