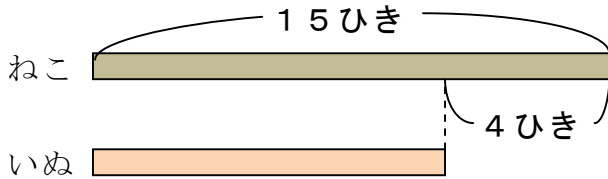


単 元	年 組 番
2年「ちがいをみて」	氏名

しきを たくしく かくための 図の かきかた ①

ねこが 15ひき います。ねこは、いぬより 4ひき 多いそうです。
いぬは 何ひき いますか。



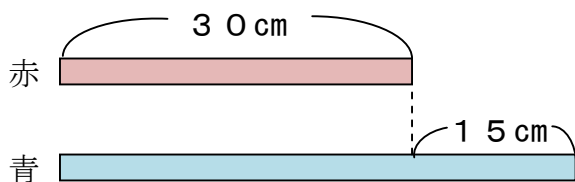
- ① ねこの ほうが 多いので、ねこの テープ図を 長く かく。
- ② もんだいから わかる ことを テープ図に かきこむ。
(15ひき, 4ひき)

図を かくと、いぬの 数は ひき算で もとめられることが わかります。

(しき) $15 - 4 = 11$ こたえ 11ひき

しきを たくしく かくための 図の かきかた ②

赤い テープの 長さは 30cm です。赤い テープは、青い テープより 15cm みじかい そうです。青い テープは 何cm ですか。



- ① 赤い テープの ほうが みじかいので、赤い テープ図を みじかく かく。
- ② もんだいから わかる ことを テープ図に かきこむ。
(30cm, 15cm)

図を かくと、青い テープの 長さは たし算で もとめられることが わかります。

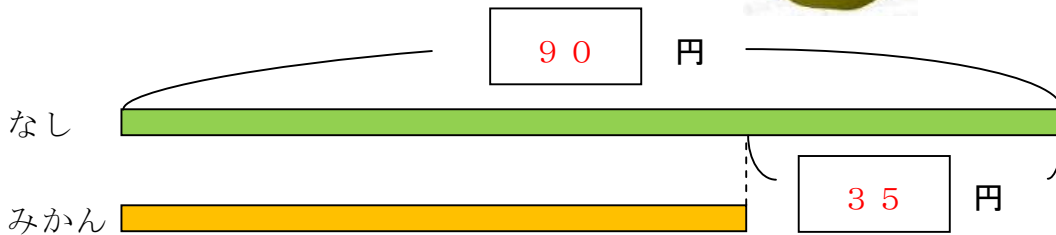

(しき) $30 + 15 = 45$ こたえ 45cm



しきを たくしく かくには、
図を かくことが たいせつ ですね。

単元	年組番	12問
2年「ちがいをみて」	氏名	

- 1 なしは 90円です。
 なしは、みかんより 35円 高いそうです。
 みかんは 何円ですか。

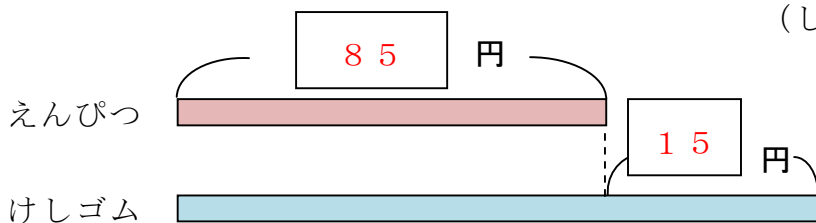


(しき) $90 - 35 = 55$

こたえ

55円

- 2 えんぴつは 85円です。
 えんぴつは、けしゴムより 15円 やすい そうです。
 けしゴムは 何円 ですか。

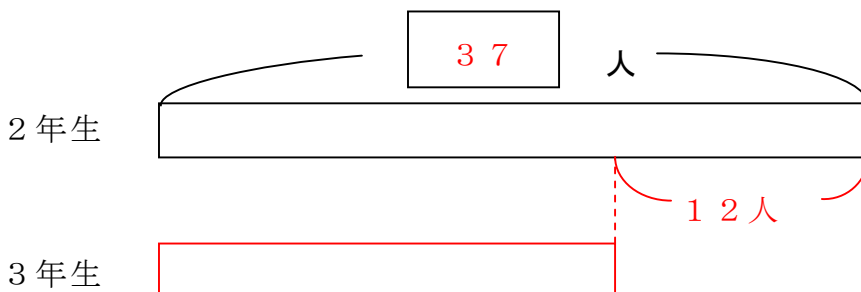


(しき) $85 + 15 = 100$

こたえ

100円

- 3 2年生の ^{にんずう}人数は 37人です。2年生は、3年生より 12人 多いそうです。
 3年生の 人数は 何人ですか。図の つづきを かいて もとめましょう。



(しき) $37 - 12 = 25$

こたえ

25人