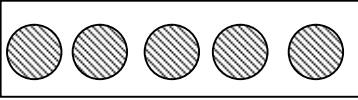
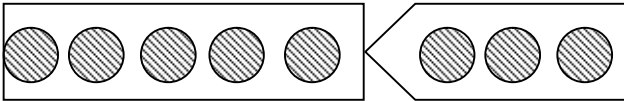


単 元	年 組 番
1年「3つの かずの けいさん」	氏名

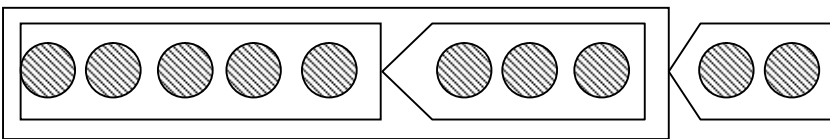
ふえて ふえて



5こ あります。



3こ ふえました。



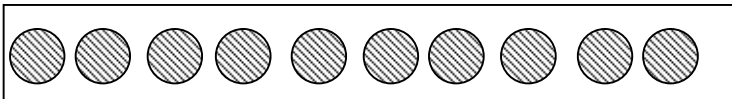
また 2こ ふえました。

なんこに なりますか。

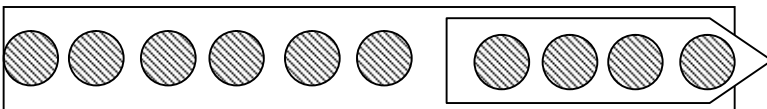
しき  $5 + 3 + 2 =$

こ

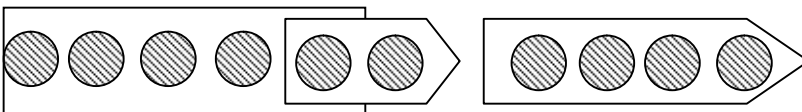
へって へって



10こ あります。



4こ へりました。



また 2こ へりました。

なんこに なりますか。

しき  $10 - 4 - 2 =$

こ



3つの かずの ときにも、2つの かずの ときのように、じゅんじゅんに たしたり、ひいたり することができるわね。

けいさんするときは、ひだりから じゅんに たしていったり、ひいていったり すればいいんだよね！



単 元	年 組 番	14問
1年「3つのかずのけいさん」	氏名	

1 しきと こたえを かきましょう。

(1)

バスに 5にん のっています。  
 つぎの バスでい 5にん のってきました。  
 そのつぎの バスでい 3にん のってきました。  
 バスに のっている ひとは なんにんに なりましたか。

しき

$$5 + 5 + 3$$

$$13$$

にん

(2)

バスに 9にん のっています。  
 バスでい 3にん おりました。  
 そのつぎの バスでい 4にん おりました。  
 バスに のっている ひとは なんにんに なりましたか。

しき

$$9 - 3 - 4$$

$$2$$

にん

2 れんしゅうしましょう。

$$1 + 2 + 4 = 7$$

$$2 + 2 + 4 = 8$$

$$2 + 3 + 4 = 9$$

$$4 + 2 + 1 = 7$$

$$2 + 3 + 4 = 9$$

$$2 + 2 + 1 = 5$$

$$6 + 2 + 2 = 10$$

$$8 + 2 + 4 = 14$$

$$7 + 3 + 2 = 12$$

$$5 + 5 + 5 = 15$$

$$4 + 6 + 2 = 12$$

$$2 + 8 + 3 = 13$$

単 元	年 組 番	14問
1年「3つのかずのけいさん」	氏名	

1 しきと こたえを かきましょう。

(1)

バスに 8にん のっています。  
 バステいで 6にん おりました。  
 そのつぎの バステいで 5にん のってきました。  
 バスに のっている ひとは なんにんに なりましたか。

しき

$$8 - 6 + 5$$

7

にん

(2)

バスに 5にん のっています。  
 バステいで 3にん のってきました。  
 そのつぎの バステいで 4にん おりました。  
 バスに のっている ひとは なんにんに なりましたか。

しき

$$5 + 3 - 4$$

4

にん

2 れんしゅうしましょう。

$$5 + 2 - 4 = 3 \quad 3 + 2 - 1 = 4 \quad 8 - 3 + 2 = 7$$

$$10 - 2 - 1 = 7 \quad 10 + 3 + 4 = 17 \quad 10 - 8 + 5 = 7$$

$$16 - 6 + 4 = 14 \quad 14 + 2 - 3 = 13 \quad 10 + 6 - 2 = 14$$

$$5 + 5 - 7 = 3 \quad 10 + 6 + 2 = 18 \quad 10 + 8 - 3 = 15$$