

単 元

年 組 番

1年「20までのかず」

氏名

10といくつ、かずのならびかた



じゅう と さん



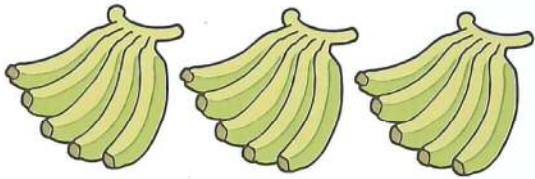
じゅうさん 13




じゅう と ご



じゅうご 15



5とび で かぞえて、5, 10, 15 15ほん



2とび で かぞえて、2, 4, 6, 8, 10, 12, 14, 16 16こ

1 1

1 2

1 3

1 4

1 5

1 6

1 7

1 8

1 9

2 0

たしざん、ひきざん



あわせて いくつ

10と2と5→10と(2+5)

12+5=17



のこりは いくつ

10と5ひく3→10と(5-3)

15ひく3=12

20までのかずのかぞえかたは、「10といくつ」とかぞえるとわかりやすいわね。

5つのまとまりや、2つのまとまりのものをかぞえるときには、「5とび」や「2とび」のかぞえかたが、はやくてべんりね。



単 元	年 組 番	21問
1年「20までのかず」	氏名	

1 かぞえましょう。

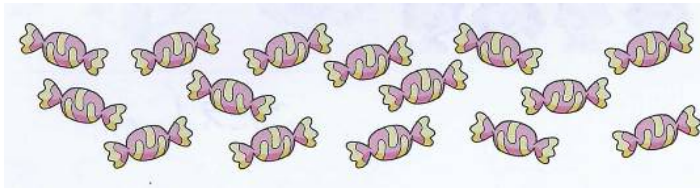
(1)



こたえ

16

(2)

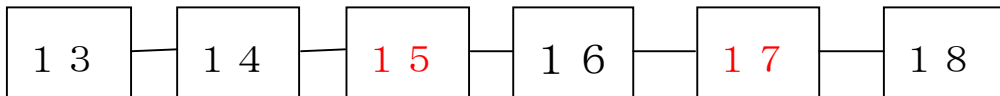


こたえ

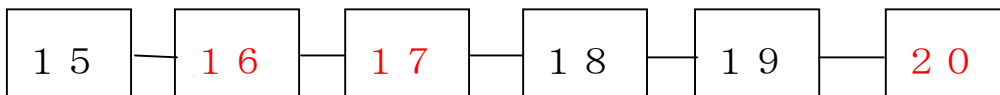
15

2 にはいる かずを かきましょう。

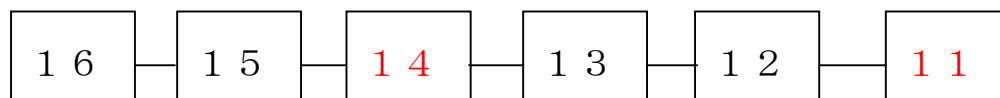
(1)



(2)



(3)



3 けいさんをしましょう。

① $10 + 4 = 14$

② $10 + 6 = 16$

③ $10 + 3 = 13$

④ $10 + 7 = 17$

⑤ $10 + 1 = 11$

⑥ $10 + 5 = 15$

⑦ $10 + 8 = 18$

⑧ $10 + 9 = 19$

⑨ $12 - 2 = 10$

⑩ $15 - 5 = 10$

⑪ $18 - 8 = 10$

⑫ $11 - 1 = 10$

⑬ $16 - 6 = 10$

⑭ $19 - 9 = 10$

⑮ $14 - 4 = 10$

⑯ $17 - 7 = 10$

チャレンジシート③ ジャンプ

学習日 年 月 日

単元	年組番	18問
1年「20までのかず」	氏名	

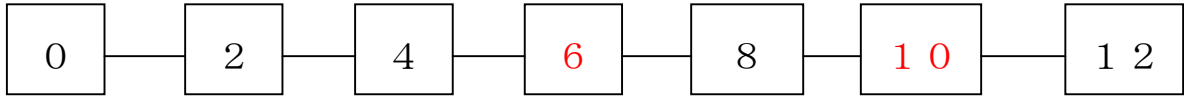
1 に かずを かきましょう。

(1)

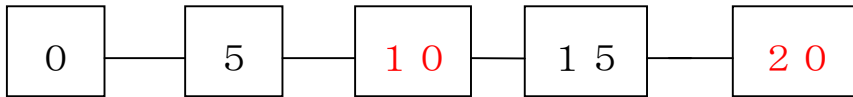


10 と で

(2)



(3)



(4)



2 どちらがおおきいですか。

(1)

と

こたえ

(2)

と

こたえ

3 けいさんを しましょう。

- | | | |
|-----------------|-----------------|-----------------|
| ① $15 + 2 = 17$ | ② $12 + 7 = 19$ | ③ $14 + 3 = 17$ |
| ④ $16 + 3 = 19$ | ⑤ $18 - 4 = 14$ | ⑥ $17 - 6 = 11$ |
| ⑦ $19 - 7 = 12$ | ⑧ $15 - 3 = 12$ | ⑨ $16 - 10 = 6$ |
| ⑩ $13 - 10 = 3$ | ⑪ $19 - 10 = 9$ | ⑫ $14 - 10 = 4$ |