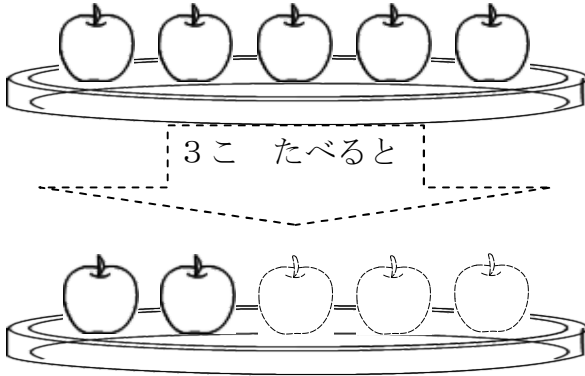


単 元	年 組 番
1年「ひきざん(1)」	氏名

のこりは いくつ



3こ たべると

「たべると」 「かえると」

「とんでいくと」

「つかうと」

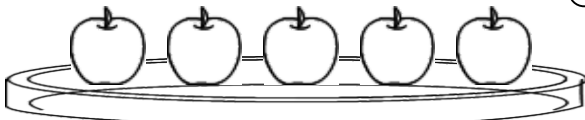
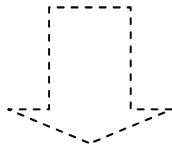
$$\text{しき } 5 - 3 = 2$$


「5 ひく 3 は 2」


ちがいは いくつ



8こ



 あかい りんごは 3こです。

 きいろい りんごは なんこですか。

$$\text{しき } 8 - 3 = 5$$

「8 ひく 3 は 5」

「たべると」「かえると」「とんでいくと」「つかうと」や、「ちがいは」など、ことばは ちがうけれど、しきにすると いっしょだね。


よいところに きがついたわね！
「-」「ひく」と 「=」「は」を つかうと たしざんのときと おなじように かんたんに あらわせるね！



単 元	年 組 番	6問
1年「ひきざん(1)」	氏名	

1 しきに かきましょう。


(1)



のこりは なんだいですか。

しき - = ことえ だい


(2)



のこりは なんこですか。

しき = こ

(3)



2わ かえると、のこりは なんわに
なりますか。

しき = わ

2 れんしゅうしましょう。

5 - 1 = 6 - 3 = 4 - 2 =

チャレンジシート③ ジャンプ

学習日 年 月 日

単 元	年 組 番	14問
1年「ひきざん(1)」	氏名	

1 しきと こたえを かきましょう。

(1) こうえんに おとこのこと おんなのこが、6にん います。

おとこのこは 4にんです。


おんなのこは なんにんですか。


しき



=

にん

(2) にわとりが 8わ います。

 おんどりは 6わです。

 めんどりは なんわですか。



しき

=

わ

2 れんしゅうしましょう。

$6 - 2 = \square$

$7 - 1 = \square$

$8 - 2 = \square$

$3 - 2 = \square$

$6 - 3 = \square$

$7 - 3 = \square$

$9 - 6 = \square$

$4 - 1 = \square$

$8 - 7 = \square$

$7 - 3 = \square$

$10 - 5 = \square$

$10 - 9 = \square$