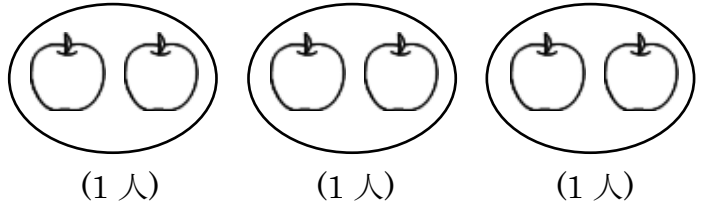


単 元	年 組 番
1年「おなじ かずずつ」	氏名

1人に ○こずつ あげる

子どもが 3人^{いん} います。
りんごを 1人^{ひとり}に 2こずつ
あげます。
みんなで なんこ いきます
か。

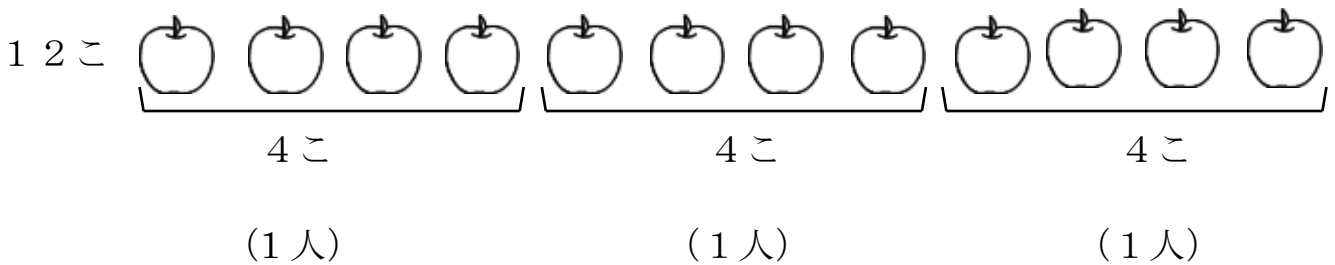


しき $2 + 2 + 2 = 6$

こたえ みんなで 6こ いきます

おなじ かずずつ わける

りんご 12こを おなじ かずずつ わけます。
3人では 1人 なんこずつ ですか。



こたえ 1人 4こ



おなじ かずずつ ○で かこん
でいくと、みんなで いくつ な
のかが かんたんに わかるよ。

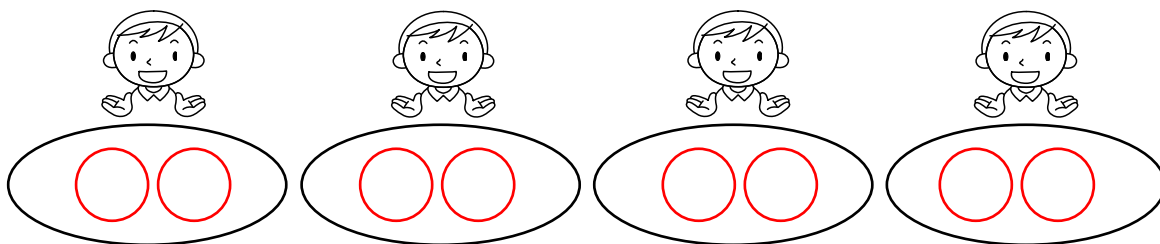
のこりが ないように おなじ かず
ずつ わけるには、1人が なんこにな
るか、けんとうを つけて かんがえ
ると いいよ。



単 元	年 組 番	5問
1年「おなじ かずずつ」	氏名	

1 子どもが 4人 います。
 くりを 1人に 2こずつ あげます。
 みんなで なんこ いらいますか。

(1) ○を かいて たしかめましょう。



(2) しきに かきましょう。

しき

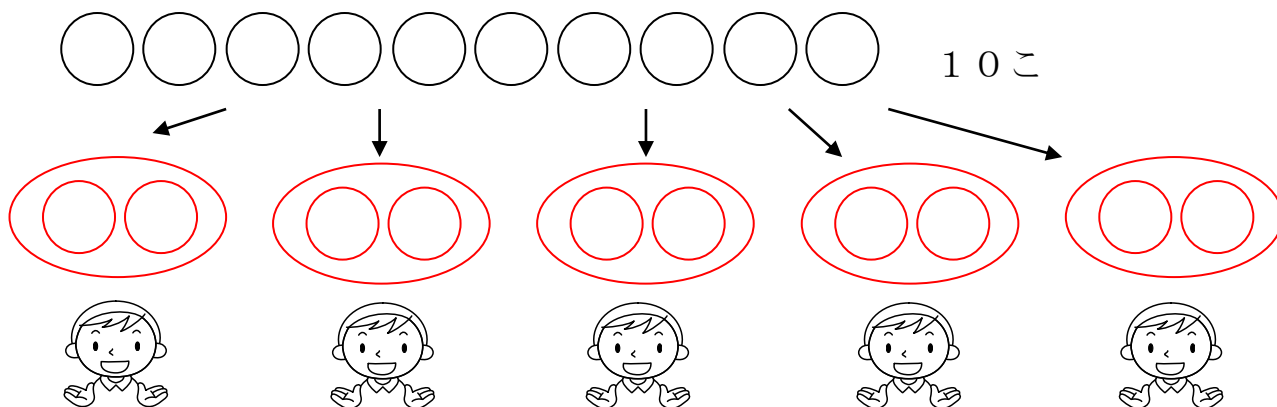
$$2 + 2 + 2 + 2 = 8$$

こたえ

8こ

2 あめが 10こ あります。
 1人に 2こずつ あげると、なん人に あげられますか。

(1) ○を かいて たしかめましょう。



(2) なん人に あげられますか。

こたえ

5人


チャレンジシート③ ジャンプ

学習日 年 月 日

単 元	年 組 番	7問
1年「おなじ かずずつ」	氏名	

1 ^{にん} 3人の 子どもに あめを 4こずつ あげます。
 みんなで なんこ いらいますか。

(1) ○を かいて たしかめましょう。

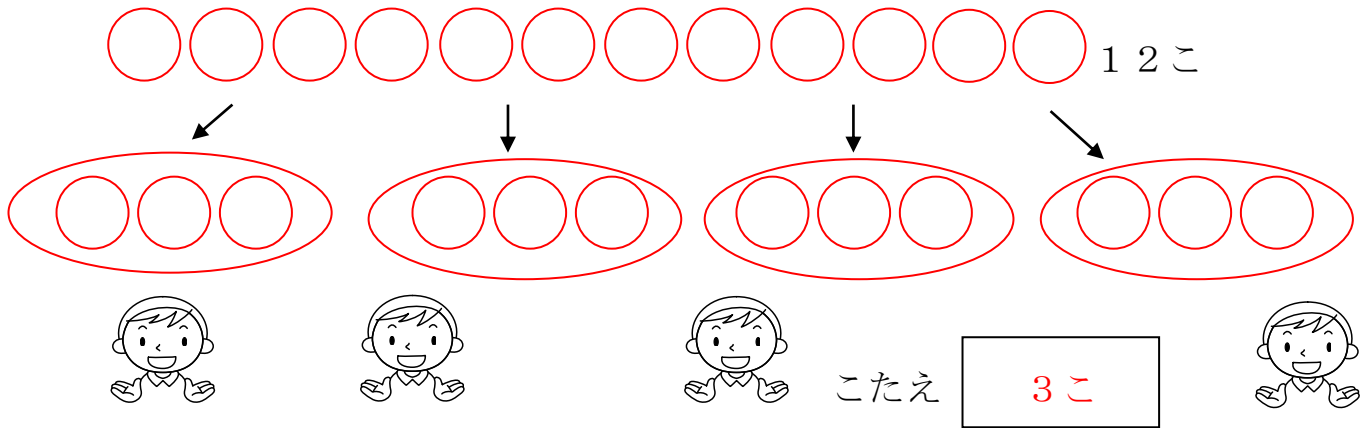


(2) しきに かきましよう。

しき 4 + 4 + 4 = 12 ことえ 12こ

2 かきが 12こ あります。
 おなじ かずずつ わけます。

(1) 4人では、1人に なんこずつですか。○を かいて たしかめましよう。



(2) 6人では 1人に なんこずつですか。○を かいて たしかめましよう。

