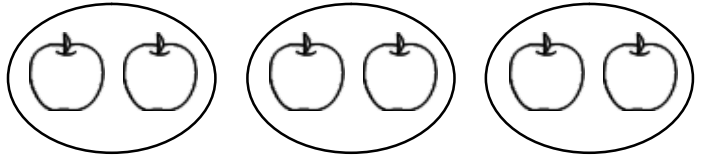


単 元	年 組 番
1年「おなじ かずずつ」	氏名

1人に ○こずつ あげる

子どもが 3人^{ひん} います。
りんごを 1人^{ひとり}に 2こずつ
あげます。
みんなで なんこ いきます
か。

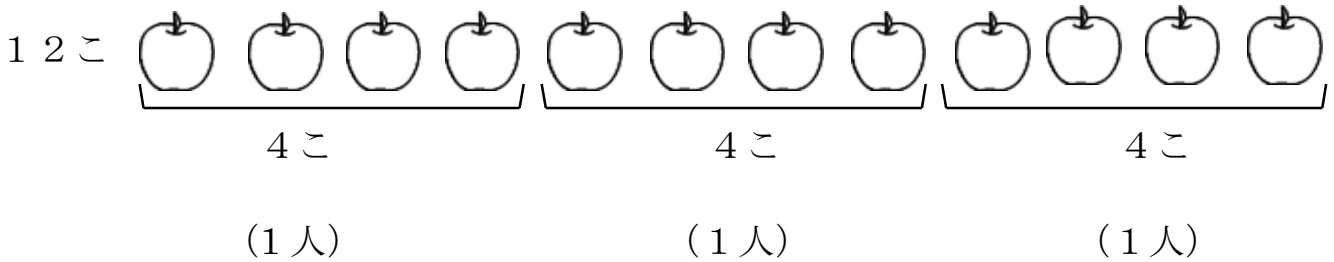


$$2 + 2 + 2$$

こたえ みんなで 6こ いきます

おなじ かずずつ わける

りんご 12こを おなじ かずずつ わけます。
3人では 1人 なんこ ですか。



こたえ 1人 4こ



おなじ かずずつを ○で か
こんでいくと、みんなで いくつ
なのかが かんたんに わかる
よ。


のこりが ないように おなじ か
ずずつ わけるには、1人が なんこに
なるか、けんとうを つけて かんがえ
ると いいよ。



単 元	年 組 番	4問
1年「おなじ かずずつ」	氏名	

- 1 子どもが 4人 います。
 くりを 1人に 2こずつ あげます。
 みんなで なんこ いらいますか。

(1) ○を かいて たしかめましょう。

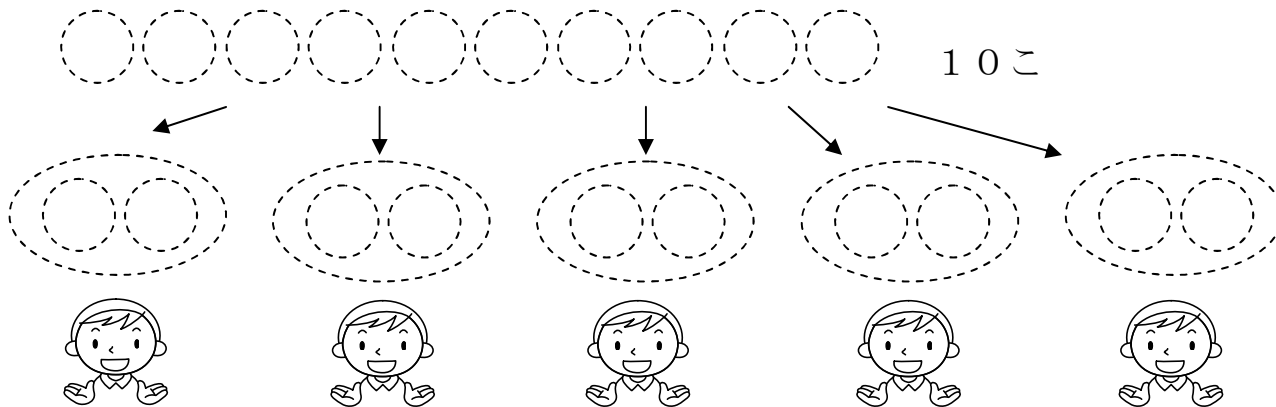


(2) しきを かきましょう。

しき 答え

- 2 あめが 10こ あります。
 1人に 2こずつ あげると、なん人に あげられますか。

(1) ○を かいて たしかめましょう。



(2) なん人に あげられますか。

答え



チャレンジシート③ ジャンプ



学習日 年 月 日


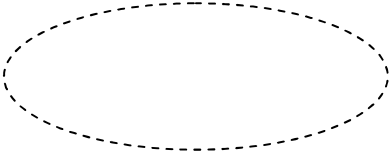
単 元	年 組 番	4 問
1 年「おなじ かずずつ」	氏名	

1 3人の 子どもに あめを 4こずつ あげます。
 みんなで なんこ いらいますか。

(1) ○を かいて たしかめましょう。





(2) しきを かきましよう。


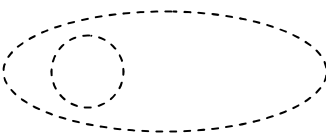
しき 答え



2 かきが 12こ あります。
 おなじ かずずつ わけます。



(1) 4人では, 1人 なんこですか。○を かいて たしかめましよう。






12こ





















(2) 6人では, 1人 なんこですか。○を かいて たしかめましよう。





答え