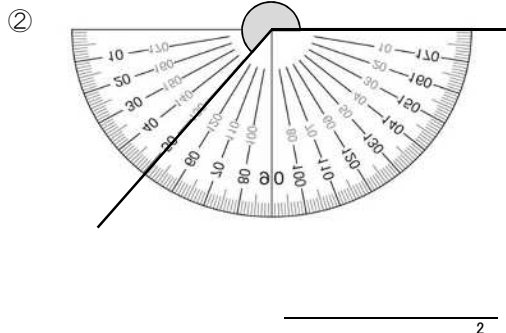
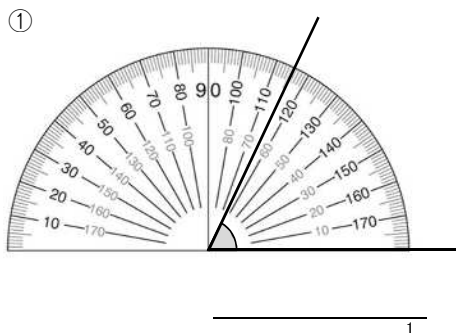
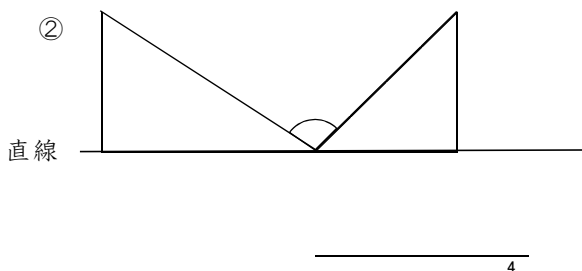
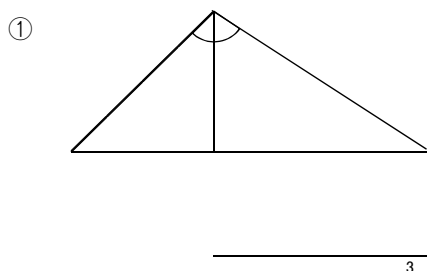


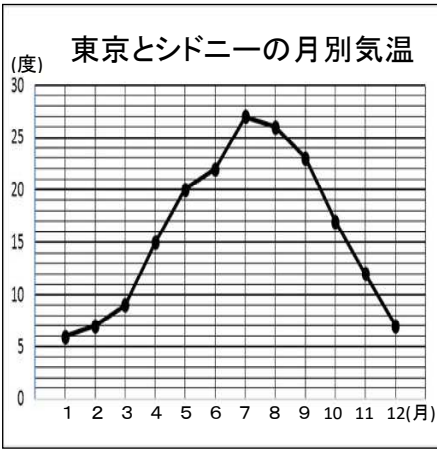
1 次の角の大きさをはかりましょう。



2 1組の三角じょうぎを使って、①、②の角をつくりました。それぞれ何度ですか。



3 右の折れ線グラフは、東京の1年間の気温の変わり方を調べたものです。



- ① 東京の5月の気温は何度ですか。 _____
- ② 東京の11月から12月までの1ヵ月間で、気温は何度下がりましたか。 _____
- ③ 東京で、気温の変わり方がいちばん大きいのは、何月から何月までの間ですか。 _____

④ ③で答えたわけをかきましょう。

_____ 7

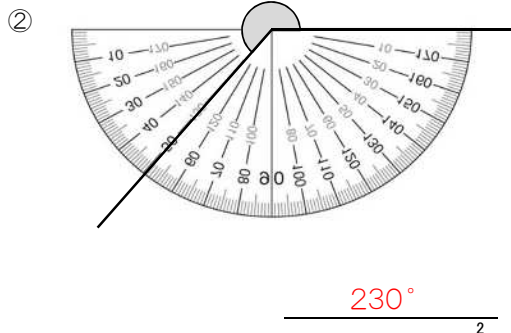
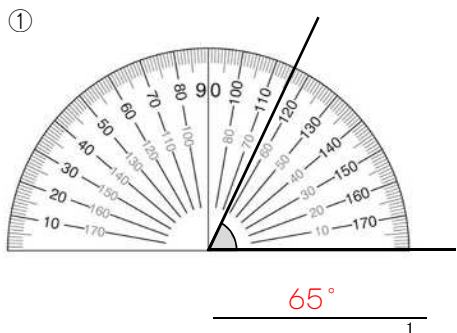
⑤ シドニー(オーストラリア)の気温の変化も、折れ線グラフにかいてみましょう。

月	1	2	3	4	5	6	7	8	9	10	11	12
シドニーの気温(度)	26	25	23	19	17	14	14	14	18	20	21	25

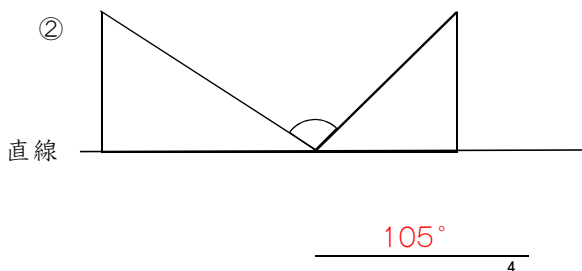
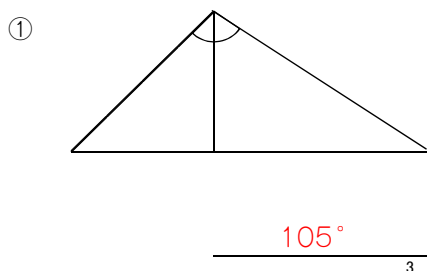
⑥ グラフを見て、東京とシドニーの気温の変わり方のちがいをかきましょう。

10

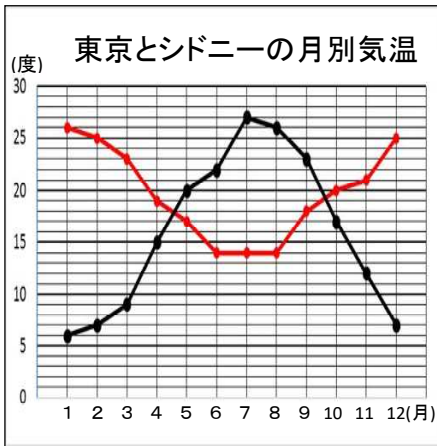
1 次の角の大きさをはかりましょう。



2 1組の三角じょうぎを使って、①、②の角をつくりました。それぞれ何度ですか。



3 右の折れ線グラフは、東京の1年間の気温の変わり方を調べたものです。



- ① 東京の5月の気温は何度ですか。 20度
- ② 東京の11月から12月までの1ヵ月間で、気温は何度下がりましたか。 5度
- ③ 東京で、気温の変わり方がいちばん大きいのは、何月から何月までの間ですか。 3月から4月、9月から10月

④ ③で答えたわけをかきましょう。

線のかたむきが急だから。

⑤ シドニー(オーストラリア)の気温の変化も、折れ線グラフにかいてみましょう。

月	1	2	3	4	5	6	7	8	9	10	11	12
シドニーの気温(度)	26	25	23	19	17	14	14	14	18	20	21	25

⑥ グラフを見て、東京とシドニーの気温の変わり方のちがいをかきましょう。

(例) 東京は、7月まで気温が上がり、その後下がっているが、シドニーは6月まで気温が下がり、8月から上がっている。

東京の方が、シドニーに比べて、年間の気温の変わり方が大きい。

など