

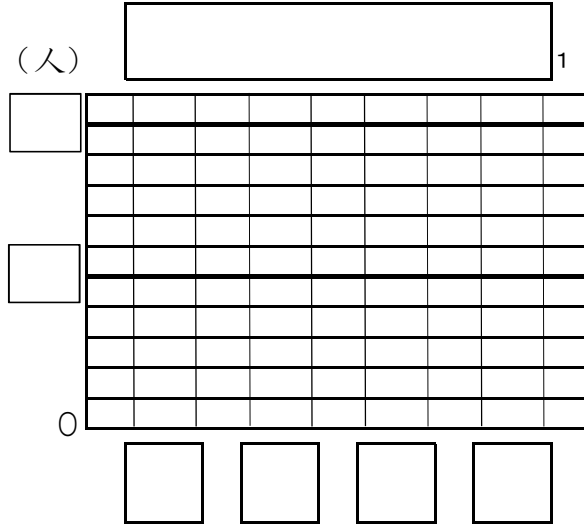
年 組 番 名前

表とグラフ ・ たし算とひき算

10 問

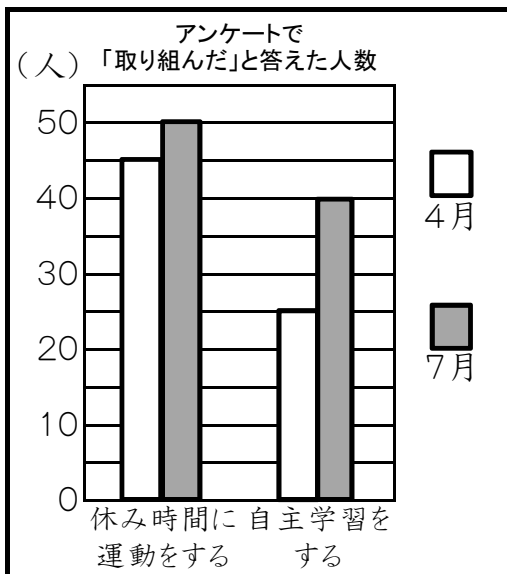
1 下の表は、すきな色の
人数を調べたものです。（人）
ぼうグラフにかきましょう。

すきな色	
色	人数(人)
赤	5
青	7
緑	4
黄	6



たてのめもり…【完答】2
よこのめもり(色の名前)…【完答】3
グラフ…【完答】4

2 あすかさんたちの係では、4月と7月に、3年生70人に生活アンケートをしました。
あすかさんは、その結果をぼうグラフに表し、わかることを2つのメモに書きました。



【メモ1】と【メモ2】は、それぞれ
どのようなことが書かれていますか。
くわしく書きましょう。

【メモ1】 5

【メモ2】 6

【メモ1】
・「休み時間に運動をする」 50人
・「自主学習をする」 40人

【メモ2】
・「休み時間に運動をする」 5人
・「自主学習をする」 15人

3 暗算でしましょう。

① $45 + 23$
7

② $78 + 34$
8

③ $100 - 34$
9

④ $100 - 93$
10

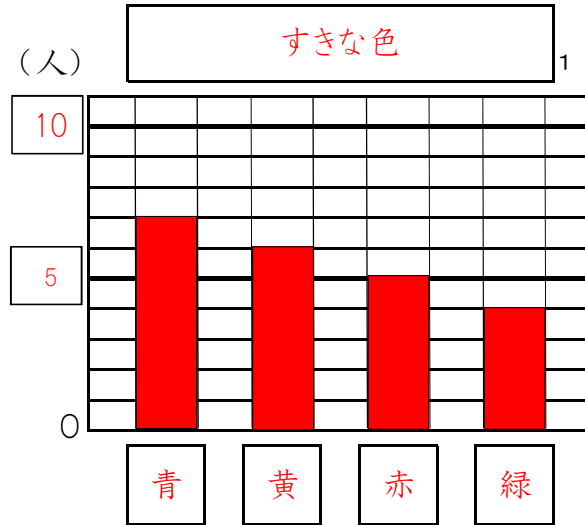
年 組 番 名前

表とグラフ ・ たし算とひき算

10 問

- 1 下の表は、すきな色の人数を調べたものです。（人）
ぼうグラフにかきましょう。

すきな色	
色	人数(人)
赤	5
青	7
緑	4
黄	6



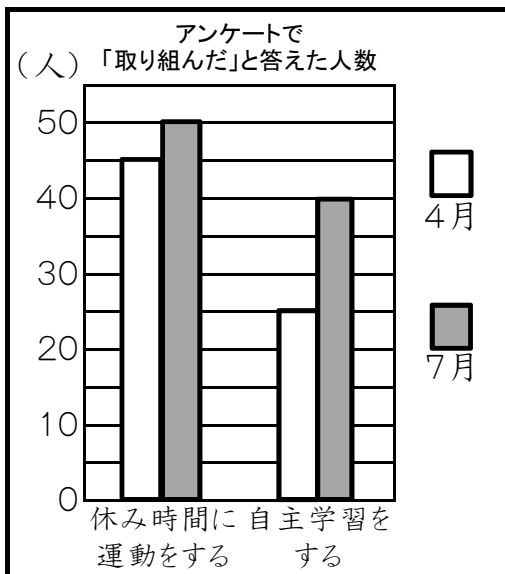
たてのめもり…【完答】2

よこのめもり(色の名前)…【完答】3

グラフ…【完答】4

※ 表の順番のとおり、左から赤青緑黄の順にグラフをかいても正答

- 2 あすかさんたちの係では、4月と7月に、3年生70人に生活アンケートをしました。
あすかさんは、その結果をぼうグラフに表し、わかることを2つのメモに書きました。



【メモ1】と【メモ2】は、それぞれどのようなことが書かれていますか。
くわしく書きましょう。

【メモ1】 5

(例)
7月の「休み時間に運動をする」人数と、「自主学習をする」人数が書かれています。

【メモ2】 6

(例)
4月と7月の人数のちがいがかかれています。

【メモ1】

・「休み時間に運動をする」 50人
・「自主学習をする」 40人

【メモ2】

・「休み時間に運動をする」 5人
・「自主学習をする」 15人

- 3 暗算でしましょう。

① $45 + 23$
7 68

② $78 + 34$
8 112

③ $100 - 34$
9 66

④ $100 - 93$
10 7