



3年 振り返りプリント①



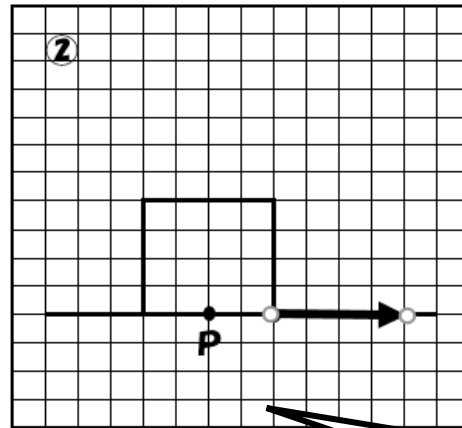
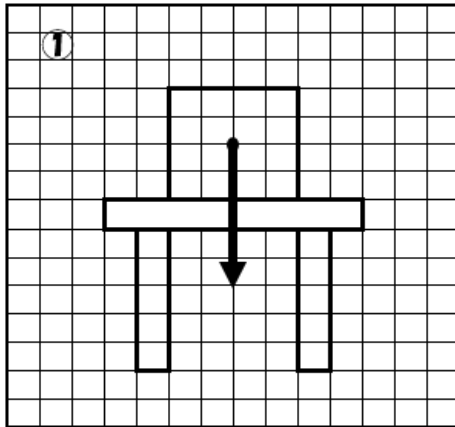
「力のつり合い」基本編

(1) 2つの力のつり合う条件について、次の()に適語を入れなさい。

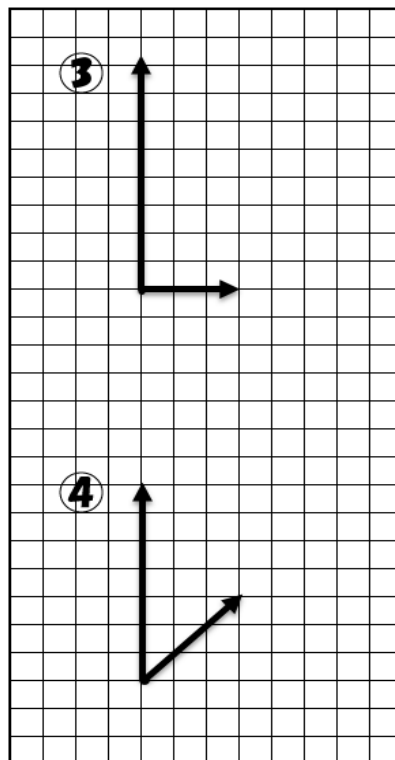
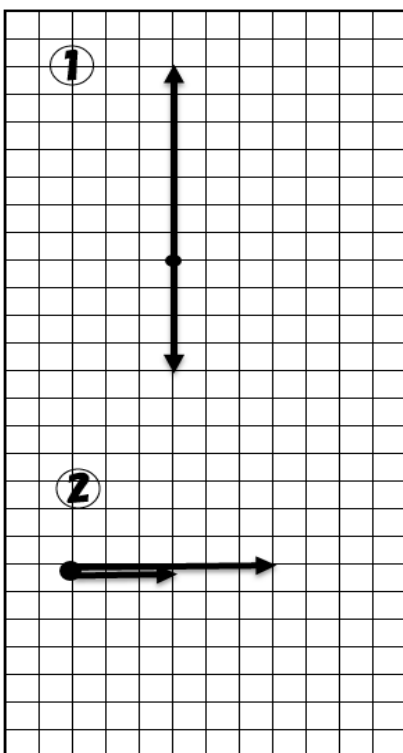
- ・ 2つの力の (①) は等しい。
- ・ 2つの力は、(②) にある。
- ・ 2つの力の向きは (③) である。

(2) 図に表されている力とつり合う力を矢印であらわしなさい。

- ① 机の上の荷物の重力
- ② 床の上にある荷物を引く力 (P点を始点として書きなさい)



(3) 2つの力を合成してみよう。



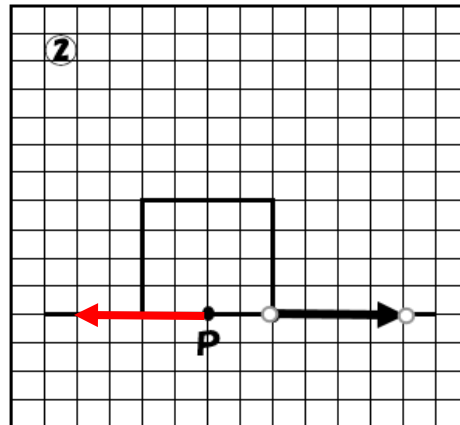
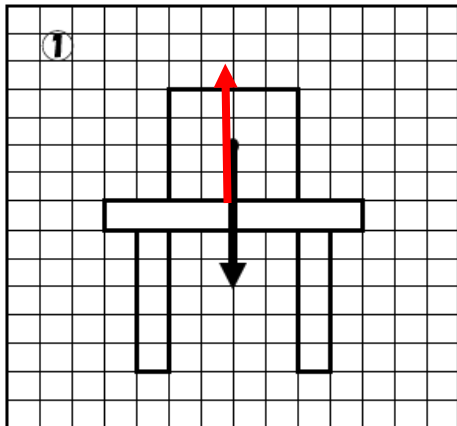
(2)で作図した力を
 (①))
 (②))
 という。

()組()番
 名前()

【解答】

(1) ① 大きさ ② 一直線上 ③ 反対 (逆)

(2) ① 垂直抗力 ② 摩擦力



(3)

