


単 元	年 組 番
2年「かけ算(1)」	氏名

いくつ分



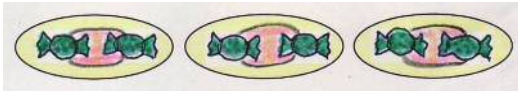
あめの 数は 4この 3つ分 といいます。
これを しきで 4×3 とかき, 「4 かける 3」と よみます。

4×3 の 答えは, $4 + 4 + 4$ で もとめられます。

(しき)	4	×	3	=	12	(答え)	12こ
	1つ分の数		いくつ分		ぜんぶの数		

4×3 のような 計算を かけ算と いいます。

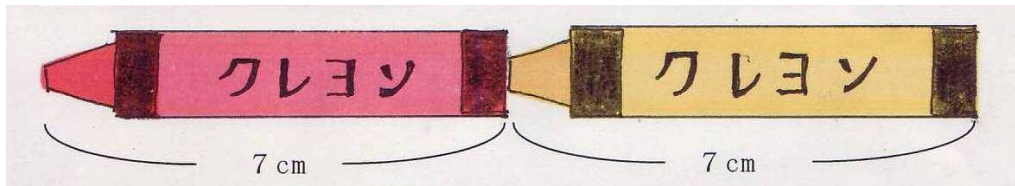
◆ あめの 数を かけ算の しきで もとめましょう。



(しき)

こたえ

何ばい



7 cm の 2つ分の ことを, 7 cm の 2ばい と も いいます。

7 の 2ばい $7 \times 2 = 14$ 14 cm

7 の 1つ分の ことを 7 の 1ばい と いい, 7×1 と しきに かきます。

◆ いくつに なるか かけ算の しきで もとめましょう。




の 5ばい (しき)

こたえ

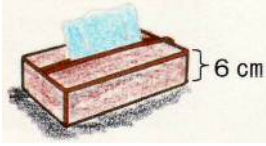
単元	年組番	27問
2年「かけ算(1)」	氏名	

1 かけ算のしきにかいてこたえをもとめましょう。

①  の 5 さら分は 何こですか。

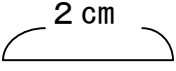
(しき)

こたえ

②  の 3 はこ分の 高さは 何 cm ですか。

(しき)

こたえ

③  の 4 ばいの 長さは 何 cm ですか。

(しき)

こたえ

2 九九を つかって ときましょう。

- ① 2×6 ② 4×4 ③ 3×5 ④ 5×2
- ⑤ 4×8 ⑥ 3×9 ⑦ 5×5 ⑧ 4×3
- ⑨ 2×3 ⑩ 3×7 ⑪ 2×9 ⑫ 3×1
- ⑬ 5×8 ⑭ 4×6 ⑮ 5×1 ⑯ 2×7

3 子どもが 2 人ずつ 組に なって、8 組 おどって います。
みんなで 何人 いますか。

(しき) こたえ

4 おもちゃの 車をつくります。1 台に タイヤを 4 こ つけます。

① 7 台 つくるには、タイヤは 何こ いらいますか。


(しき) こたえ



② 車が 1 台 ふえると、タイヤは 何こ ふえますか。

単 元	年 組 番	8 問
2年「かけ算(1)」	氏名	

- 1 チョコのはこが 4つ あります。
 1つのはこには、おかしが 5こずつ
 はいています。
 ぜんぶで 何こに なりますか。



(しき)

こたえ


しきは、 4×5 かな、それとも
 5×4 かな。
 何この いくつ分かで 考え
 ると……

- 2 あめを 3つ 買います。
 1つ 4円の あめを 買うと、何円に なりますか。



(しき)

こたえ



- 3 3こいりの りんごを 6ふくろ 買いました。
 そのあと、りんごを 2こ 食べました。
 のこっている りんごは 何こですか。

まず、かけ算をして……
 つぎは 何算かな。

(しき)

こたえ



- 4 ただしくんの クラスには 5つ はんが あります。
 どのはんも 3にん です。
 ただしくんの クラスは ぜんぶで 何人いますか。

(しき)

こたえ