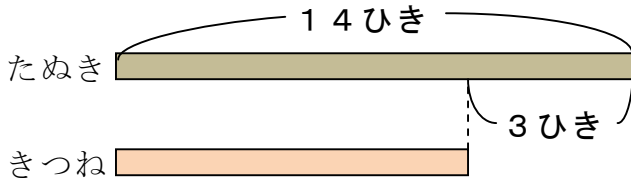


単 元	年 組 番
2年「ちがいをみて」	氏名

しきを たくしく かくための 図の かきかた ①

たぬきが 14ひき います。たぬきは、きつねより 3ひき 多いそ  
うです。きつねは 何<sup>なん</sup>ひき いますか。



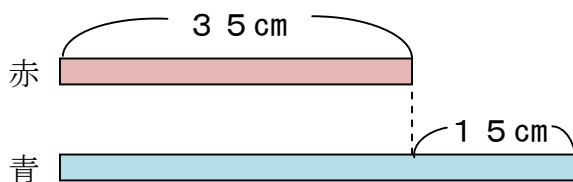
- ① たぬきの ほうが 多いので、  
たぬきの テープ図を 長く かく。
- ② もんだいから わかる ことを  
テープ図に かきこむ。  
(14ひき, 3ひき)

図を かくと、きつねの 数は ひき算で もとめられることが わかります。

(しき)  $14 - 3 = 11$       こたえ 11ひき

しきを たくしく かくための 図の かきかた ②

赤い テープの 長さは 35cm です。赤い テープは、青い テープより  
15cm みじかい そうです。青い テープは 何cm ですか。



- ① 赤い テープのほうに みじかいので、  
赤い テープ図を みじかく かく。
- ② もんだいから わかる ことを  
テープ図に かきこむ。  
(35cm, 15cm)

図を かくと、青い テープの 長さは たし算で もとめられることが  
わかります。

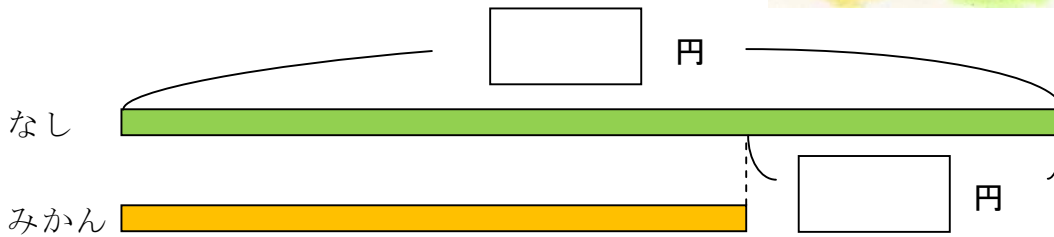

(しき)  $35 + 15 = 50$       こたえ 50cm



しきを たくしく かくには、  
図を かくことが たいせつ ですね。

単 元	年 組 番	1 2 問
2年「ちがいをみて」	氏名	

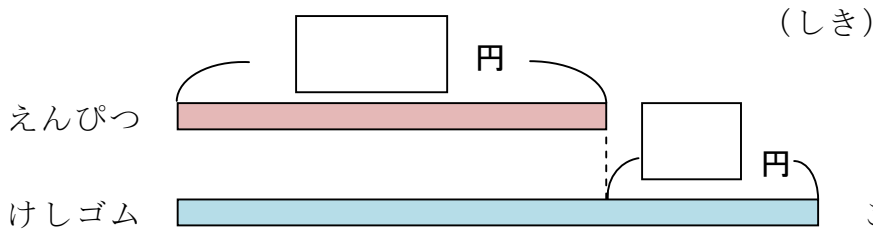
- 1 なしは 90円です。  
 なしは、みかんより 35円 高いそうです。  
 みかんは 何円ですか。



(しき)

こたえ

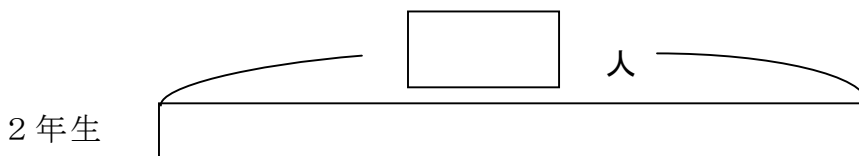
- 2 えんぴつは 85円です。  
 えんぴつは、けしゴムより 15円 やすい そうです。  
 けしゴムは 何円 ですか。



(しき)

こたえ

- 3 2年生の <sup>にんずう</sup>人数は 37人です。2年生は、3年生より 12人 多いそうです。  
 3年生の 人数は 何人ですか。図の つづきを かいて もとめましょう。



(しき)

こたえ