

単 元	年 組 番
2年「ひょう・グラフと 時計」	氏名

ひょうとグラフ

すきなおかしらべ

すきなおかし	チョコレート	クッキー	ポテトチップス	ガム	グミ	キャラメル
人数(人)	5	2	4	3	3	2

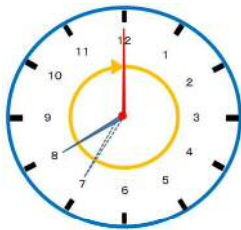
すきなおかしらべ



しらべた数がよくわかるようにひだりのようにせいりしたものをひょうといいます。

ひょうの数を○などをつかってひだりのようにあらわしたものをグラフといいます。

時間と午前、午後



長い ほうが ひとまわりする 時間は

1 時間です。

1 日は 24 時間です。

1 時間 = 60 分

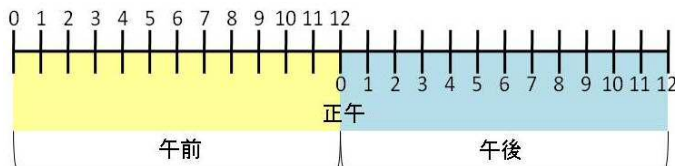
1 日 = 24 時間

午前は 12 時間

午後は 12 時間です。

1 日は 午前と午後が 12 時間ずつです。

午前から 午後になる 時こくが 正午です。



★ 9時35分の 1時間あとの 時こくは です。

◆ 4月15日午前8時から 4月16日午前8時までの 時間は 時間です。




1年生の「大きくらべ」でとけいのよみかたを がくしゅうしました。「なん時なん分」から「なん時なん分」までのあいだが 時間なのですね。

時こくと時間は、まちがえやすいから ちゅういしましょう。



単 元	年 組 番	1 2 問
2年「ひょう・グラフと 時計」	氏名	

1 下のようなくだものの絵があります。



すきなくだもの しらべ

すきな くだもの	りんご	ぶどう	みかん	いちご
人 数 (人)				

すきなくだもの しらべ

りんご	ぶどう	みかん	いちご

- (1) 数をしらべて、ひょうや
グラフに かきましょう。
- (2) いちばん多い くだもの
は どれですか。

2 に あてはまる数を かきましょう。

(1) 1日 = 時間 (2) 1時間 = 分

(3) 午前は 時間で、午後は 時間です。

(4) 午前から 午後になる 時こくを といいます。

3 いま 9時25分です。つぎの 時こくを いいましょう。

- (1) 1時間あと (2) 1時間前
- (3) 30分あと (4) 30分前

